




日期：\_\_\_\_\_

成績：\_\_\_\_\_




下列各圖中，是線段的，在  內加「✓」；不是的，加「x」。

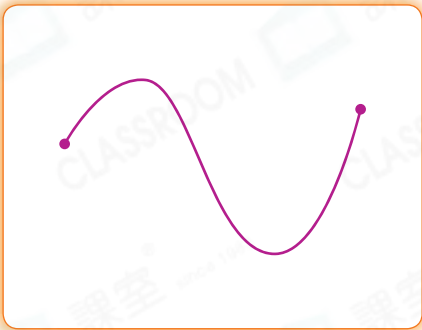
1.



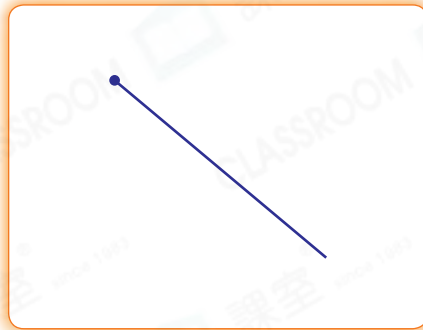

2.




3.




4.





填一填。

5. 這是一個\_\_\_\_\_形，它由\_\_\_\_\_條線段圍成。

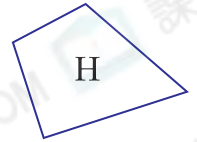
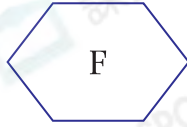

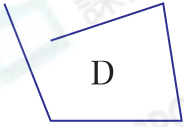
6. AB的對邊是\_\_\_\_\_，  
BC的對邊是\_\_\_\_\_。



7. AD的鄰邊是\_\_\_\_\_和\_\_\_\_\_。

8. 共有\_\_\_\_\_個角。

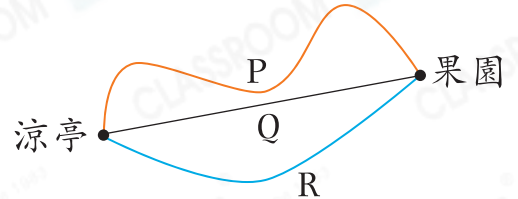
9.



(a) 圖E和圖H都由\_\_\_\_\_條線段圍成，都是\_\_\_\_\_形。

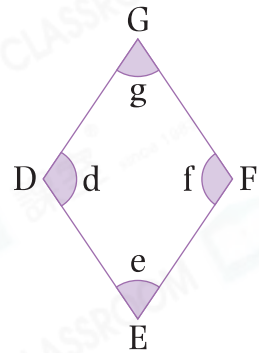
(b) 圖\_\_\_\_\_中的線段最多。

10. 從涼亭到果園有P、Q和R三條路線，其中路線\_\_\_\_\_最短。




11. 觀察右圖，下列哪些描述是正確的？寫出所有代表答案的英文字母。

- A. DE是EF的對邊。
- B. GF的其中一條鄰邊是EF。
- C. DG和EF是一組對邊。
- D. 共有3個鈍角。



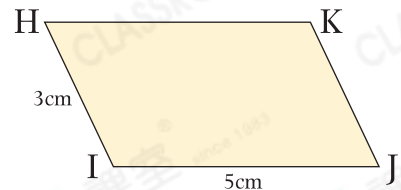
答案：\_\_\_\_\_

12.



上圖中，共可數出\_\_\_\_\_條不同的線段。

13. 右圖中，四邊形的兩組對邊分別相等，HK的長度是\_\_\_\_\_cm。



14.



把每兩個點用直線連接起來，在左圖中畫出所有線段。