




6. 麗欣有 。

(a) 她共有 \_\_\_\_\_ 元 \_\_\_\_\_ 角。

(b) 她的款項最多可換得 \_\_\_\_\_ 個 。

7. 以下哪一項最適合用來量度一張貼紙的長度？

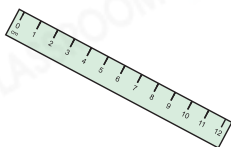
A. 腳掌的長度



B. 指距




C. 厘米尺

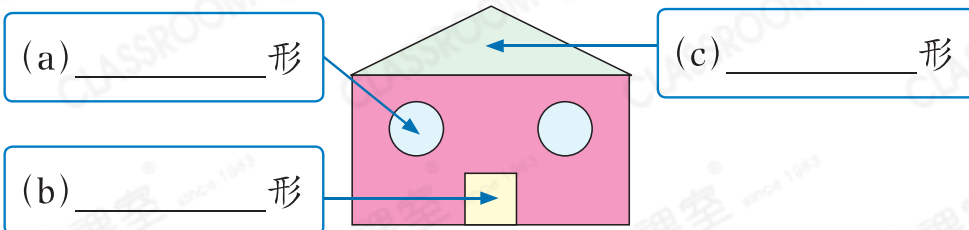
D. 繩子



8. 爸爸約了維修工人在9時45分到家中維修冷氣機。右圖顯示維修工人到達的時間，他比約定時間  早 / 遲 ( 圈出答案) 了 \_\_\_\_\_ 分鐘。



9. 寫出以下各平面圖形的名稱。



10. 右圖中，共有 \_\_\_\_\_ 個銳角。

