



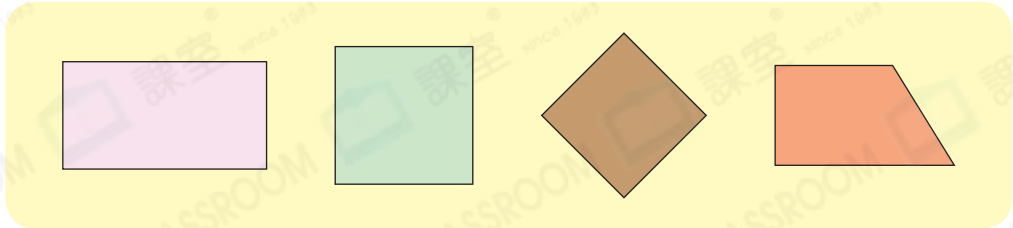
日期：\_\_\_\_\_

成績：\_\_\_\_\_

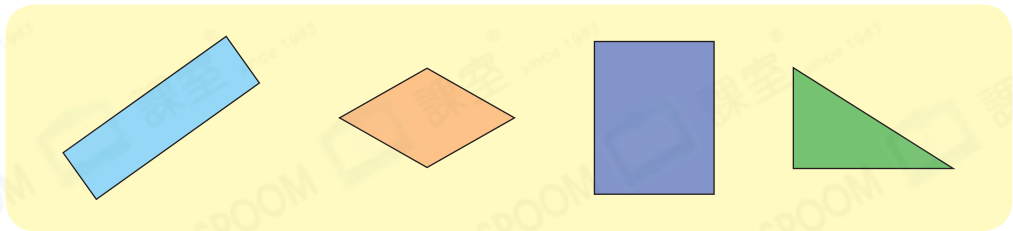


圈出所有指定的圖形。

## 1. 正方形



## 2. 長方形



量一量，填一填。

3. 用直尺量度右圖四條邊的長度，  
並填在括號內。

( ) cm

( ) cm

( ) cm



( ) cm

4. 右圖有\_\_\_\_\_個直角。

5. 右圖是一個\_\_\_\_\_形。

( ) cm

( ) cm

( ) cm

( ) cm



6. 用直尺量度左圖四條邊的長  
度，並填在括號內。

7. 左圖有\_\_\_\_\_個直角。

8. 左圖是一個\_\_\_\_\_形。

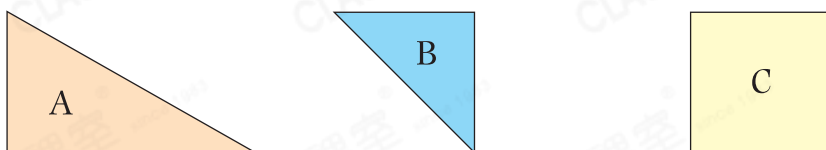
9. 以下哪一項是不正確的？

- A. 正方形和長方形都有四個直角。
- B. 正方形的對邊長度不相等。
- C. 正方形的四邊長度相等。
- D. 長方形的對邊長度相等。

**STEAM 百科**

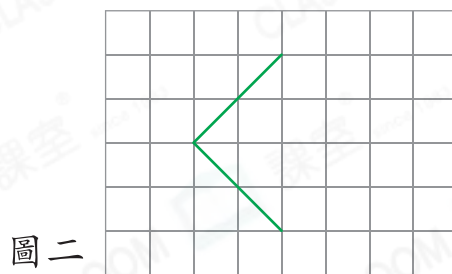

房間平面設計中，長方形平面被廣泛採用的原因之一是方便房間的佈置。

10. 子華用以下的圖形嘗試拼砌出正方形和長方形。



- (a) 他用兩個圖形 A 可拼砌出 \_\_\_\_\_ 形。
- (b) 他用兩個圖形 B 可拼砌出 \_\_\_\_\_ 形。
- (c) 他用兩個圖形 B 和一個圖形 C ★ 能 / 不能 (★ 圈出答案) 拼砌出正方形。

11. (a) 在圖一加上兩條線段，與原有的線段組成一個長方形。



(b) 在圖二加上兩條線段，與原有的線段組成一個正方形。

腦力挑戰站



詳盡提示

從右圖中移走3枝竹籤，使它最多可以數出3個正方形。在移走的竹籤上加上「X」。

