

應用題訓練一



日期：_____

成績：_____

○ 減法 ○ 加減混合運算 ○ 貨幣計算

1. 德明小學共有 756 名學生，其中男生有 398 名，女生有多少名？



圖解

共有 756 名學生

398 名男生

? 名女生

2.



\$28.60



\$35.80



\$

(a) 一個筆袋比一個鉛筆刨便宜 7 元 9 角，一個鉛筆刨售多少？




提示

一個鉛筆刨比一個筆袋貴。

(b) 姊姊購買一個筆袋後，尚欠 5 元 2 角才能購買一個筆筒，姊姊原有 _____ 元 _____ 角。

3. 卓賢的身高是 175cm，比子聰高 56cm，子聰的身高是多少？



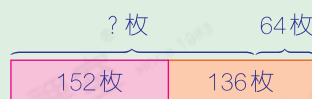
提示

留意字眼「比子聰高」，即卓賢的身高較高。

4. 家恩原有152枚日本郵票和136枚英國郵票，送給妹妹64枚郵票後，她現有郵票多少枚？




圖解






5. 右表顯示貨架上各物件原有的數量，賣出175個水杯後，還餘杯多少個？

種類	水杯	茶杯	湯碗
數量(個)	252	104	357



提示

根據題目的要求，選出有用的數據。

6. 李先生在運動用品店買了一筒羽毛球，售價   ，他付款100元，應找回多少？



提示

先找出一筒羽毛球的售價。

7. 飲品店昨天上午和下午各售出364杯果汁，昨天比今天少售出112杯。飲品店今天售出果汁多少杯？



圖解

