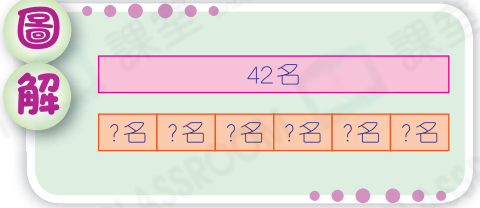


應用題訓練二

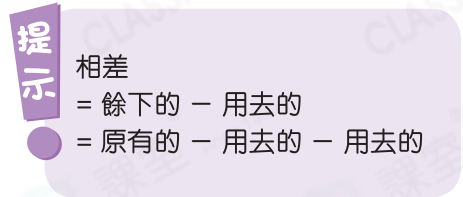
- 除法 ○ 加減混合運算 ○ 貨幣計算

日期： _____
成績： _____

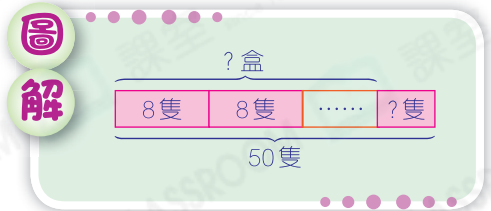
1. 老師把 42 名學生平均分成 6 組，每組有學生多少名？



2. 家裏有 550 枚萬字夾，用去 242 枚，餘下的萬字夾與用去的相差多少枚？



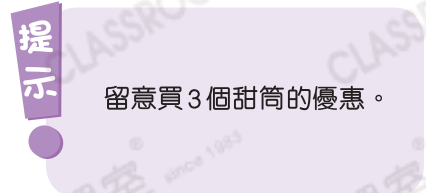
3. 有 50 隻皮蛋，每 8 隻裝成一盒，共可裝成多少盒？餘下多少隻？




4. 玲玲買 3 個甜筒，須付款多少？



買二送一
\$9.80



5.



14米

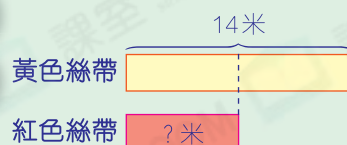


?米

黃色絲帶的長度是紅色絲帶的兩倍。即紅色絲帶長多少米？

圖

解



6. 志雯有36元，她最多可換得5元硬幣多少個？

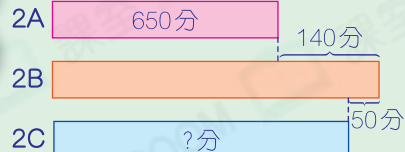
提示

注意餘數的處理。

7. 在一次數學問答比賽中，2A班獲得650分，比2B班低140分，2B班又比2C班高50分，即2C班獲得多少分？

圖

解



8. 每輛觀光車最多可接載9人，要接載83名遊客，最少需要觀光車多少輛？

提示

餘下的遊客也需要一輛觀光車來接載。