

# 複習二

● 1上至2上課題



日期：\_\_\_\_\_



成績：\_\_\_\_\_ /15



時限： 20分鐘

範疇	評估重點	題目	得分
數	◇ 三位數      ◇ 加法和減法 ◇ 乘法	1 - 5	/7
度量	◇ 時間      ◇ 日期	6 - 7	/3
圖形與空間	◇ 立體圖形      ◇ 垂直線	8 - 9	/5



自我評估

12-15分



8-11分



0-7分



評分欄



1分



1分



1分



1分



1分



1分



1分

1. \_\_\_\_\_  $\times 100 = 0$

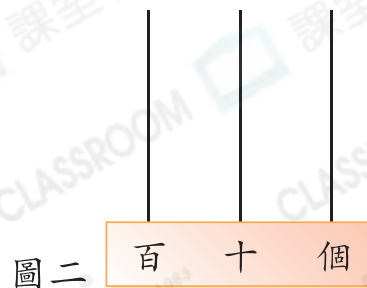
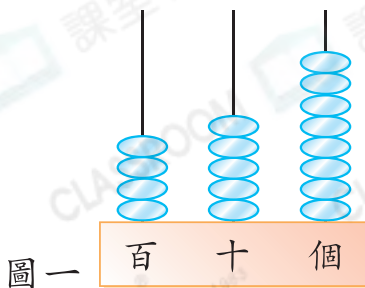
2.  $59 + \underline{\hspace{2cm}} = 78$

3. 9的9倍等於\_\_\_\_\_。

4. 俊德原有97元，他買了一個價值58元的洋娃娃給妹妹後，餘下多少元？(列式計算)



5. 圖一的算柱代表一個三位數。這個數少3是多少？把結果畫在圖二的算柱上。



6. (a) 朗誦比賽在  開始，那時是

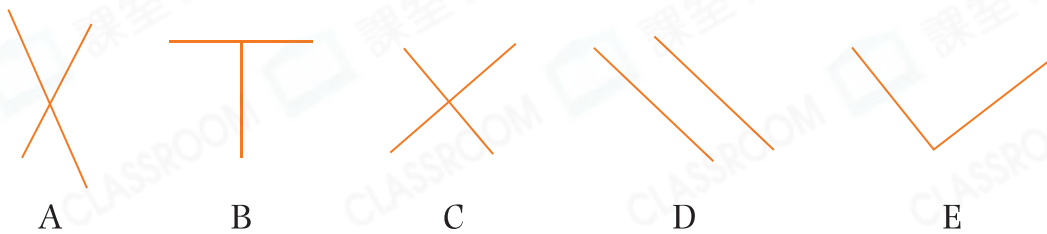
★ 上午 / 下午 \_\_\_\_\_ 時 \_\_\_\_\_ 分。

(★ 圈出答案)

(b) 朗誦比賽在下午12時10分結束，比賽共用了 \_\_\_\_\_ 小時。

7. 今年是平年，今年二月有 \_\_\_\_\_ 天。

8. 觀察下列各圖，寫出所有代表答案的英文字母。



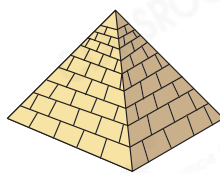
列出由垂直線組成的圖。

答案：\_\_\_\_\_

9.



A



B




C



D



E



F



G

觀察以上物件，把所有代表答案的英文字母寫在它們的名稱下：

球	角柱	角錐	圓錐

