

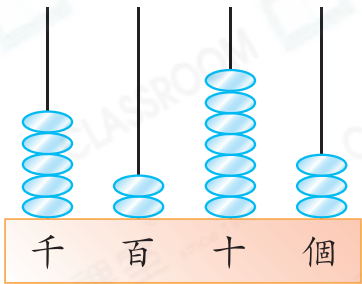


日期：_____

成績：_____



回答下列各題。



1. 讀作：_____

2. 千位數字是_____，代表_____。

3. 百位數字是_____，代表_____。

4. 十位數字是_____，代表_____。

5. 個位數字是_____，代表_____。



依指示排列下列各數。

6.

6345

9052

1648

_____ < _____ < _____

7.

2065

2605

5020

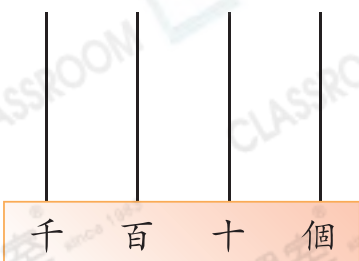
6045

_____ > _____ > _____ > _____

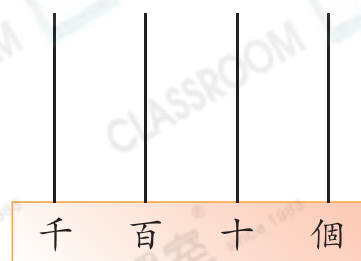


在算柱上畫上算珠，表示指定的數。

8. 2013



9. 4265



10. 依規律填數字。

996, 997, _____, _____, _____

11. 寫出一個比 2650 大，又比 3002 小的雙數。

答案：_____

12. 在 6219 這個數裏，數字「6」表示的數值是

★ 6 / 60 / 600 / 6000 (★圈出答案)。

13. 一張沙發售五千零八元。

(a) 用阿拉伯數字寫出沙發的售價。

答案：_____元

(b) 媽媽有 5060 元，她★能 / 不能 (★圈出答案) 買到這張沙發。

14.

4056

?

4650

把三個四位數由小至大排列，如上圖所示，以下哪一個可能是空格裏的數字？

A. 3604

B. 4046

C. 4560

D. 6045

15.

5

3

7

2

(a) 用上面的數字卡可以組成的最大四位單數是_____。



(b) 用上面的數字卡組成一個小於七千的四位雙數，這個數最大是_____。