

3

香港的貨幣

日期：_____

成績：_____

寫出下列各組貨幣的總值。



_____ 元

STEM 百科

中國是最先使用紙幣的國家，當時的造幣廠使用桑樹皮製紙幣，通行全國。



_____ 元




_____ 元 _____ 角

圈出購買以下貨品須付的款項。

4. 
\$210



5. 
\$650





6. 右面筆筒的售價是多少？

- A. 258 元 ○ B. 25 元 8 角
○ C. 200 元 ○ D. 20 元



特價 \$20
~~\$25.80~~

7. (a) 1 張  可換得 _____ 張 .


(b) 2 張  可換得 2 張  和 _____ 張



8. (a) 一瓶右面的洗髮露的售價是 _____ 元 _____ 角。



\$79.50

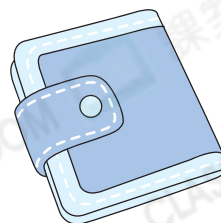
(b) 子謙付  購買一瓶洗髮露，圈出店員須找回的金額。



得分重點

⊕ 貨幣總值是 100 元，劃去須付的金額，餘下的便是須找回的金額。

9. 媽媽最少付 _____ 張紙幣和 _____ 個硬幣，剛好可購買右面的錢包。



\$378