

○ 練習 1-8

範疇	評估重點	題目	得分
數	◇ 五位數 ◇ 乘法	1-12	/17
度量	◇ 公里 ◇ 毫米 ◇ 秒 ◇ 活動時間 ◇ 24小時報時制	13-20	/15

自我評估

25-32分 

17-24分 

0-16分 

1. 在45007這個數裏，數字「5」是在

- A. 萬位。 ○ B. 千位。
- C. 百位。 ○ D. 十位。

2. 以下是各款首飾的價目表。

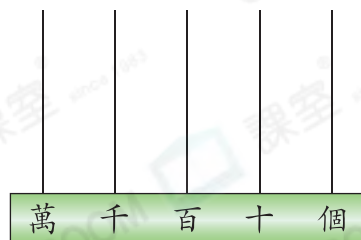
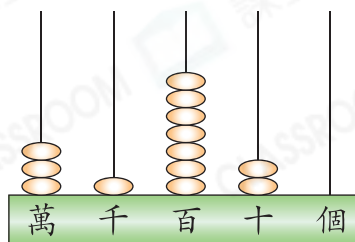
首飾	手鏈	項鏈	戒指
售價	\$12250	\$13050	\$12200

把三款首飾的售價由高至低排列出來。

答案：\$ _____ ， \$ _____ ， \$ _____

(最高) (最低)

3. 右圖的算柱表示一個五位數。這個數減去410是多少？把結果畫在下圖的算柱上。



4. 從10001開始倒數，第五個數是 _____。

評分欄



5. 用中國數字寫出「31200」這個數。

答案：_____

6. $18 \times 7 =$ _____

7. $129 \times 6 =$ _____

8. $25 \times 3 \times 8 =$ _____

9. 一箱原子筆有24盒，每盒有8枝。

(a) 購入5箱原子筆，即共購入_____盒。

(b) 售出3箱原子筆，即共售出_____枝。

10. 雪芬報讀一個為期半年的素描班，每月的學費是950元。她共須付學費多少元？(列式計算)

11. 秀雯每天乘港鐵上學的車費是11元5角，她一星期上學五天，總車費是_____元_____角。

12. 玩具店內有5個貨架，每個貨架有4層，每層放了25輛玩具車。貨架上共有玩具車多少輛？(列式計算)



1分



1分



1分



1分



1分



1分



1分



1分



1分



1分



1分

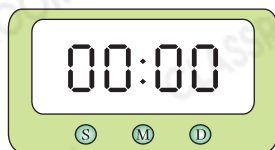


1分

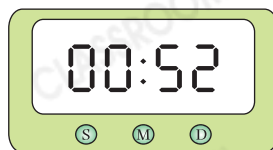


1分

13. 智霖和建彬參加跑步比賽，以下電子秒錶顯示智霖的起跑時間和衝線時間。



起跑時間



衝線時間

智霖比建彬早3秒衝線，建彬完成比賽用了_____秒。

14. 右圖是素食餐廳每日供應素食自助午餐的宣傳單。

- (a) 素食自助午餐每日供應時段長_____小時。
- (b) 爺爺和朋友在12:35 p.m.入座，他們須在下午_____時_____分前結賬離開。

45分鐘素食自助午餐

每人只需88元
(大小同價)

中午12時至下午2時供應

*45分鐘用餐時間
以入座時間計算

15. 下表顯示戲院今天部分電影的播放時間。

播放時間	10:45	13:10	15:35	18:00
電影名稱	拯救地球	恐龍世紀	外星人	精靈狗

- (a) 「外星人」開始播放的時間是★上午 / 下午 (★圈出答案) _____時_____分。
- (b) 安琪在18:05進場，她觀看的電影是「_____」。
(填上電影名稱)

16. 爸爸在鋼琴演奏會開始前21分鐘到達大會堂。用「24小時報時制」表示他到達大會堂的時間，當時是_____:_____。

鋼琴演奏會入場券

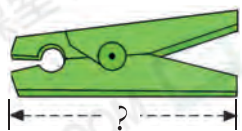
地點：大會堂

日期：7月18日

時間：19:30 — 21:30



17.



用尺子量度衣夾的長度。衣夾的長度是_____mm。

18. 在下列各項填上適當的長度單位。

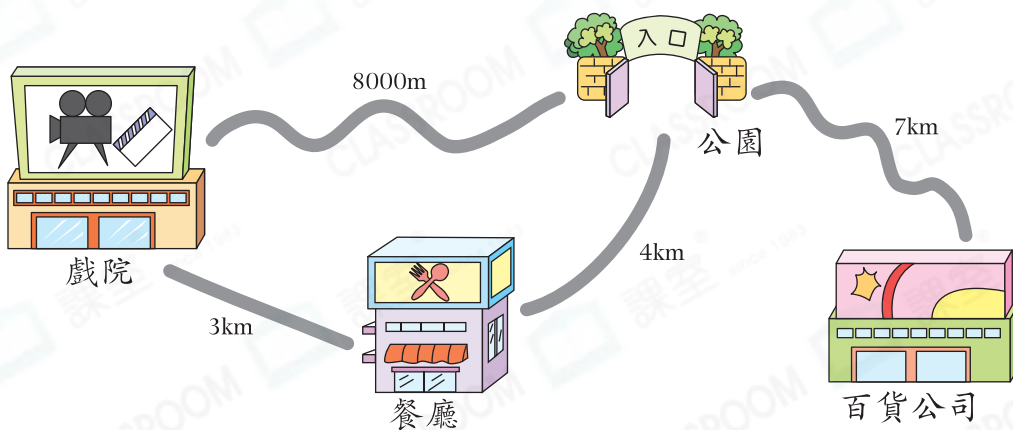
- (a) 一座城堡高約 20 _____。
- (b) 一隻辣椒長約 40 _____。
- (c) 一條過山車路軌長約 3 _____。
- (d) 一枚中國象棋棋子高約 11 _____。

19. 用尺子量度下面的紙條。



上圖的紙條長_____毫米，它的長度與一條長15厘米的紙條相差_____毫米。

20.



- (a) 從公園到☆戲院 / 餐廳 / 百貨公司 (☆圈出答案) 的路程最短。
- (b) 從公園經餐廳前往戲院需要走_____m。
- (c) 從戲院前往百貨公司，最短的路程要走_____km。



刷一刷

- 完成所有題目
- 已檢查答案