



日期：_____

成績：_____

圖中若有平行線，在空格內加「✓」，沒有的加「×」。

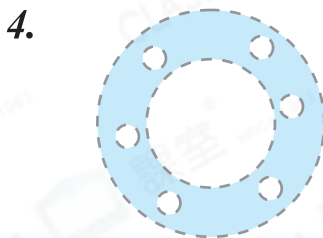


STEAM 百科

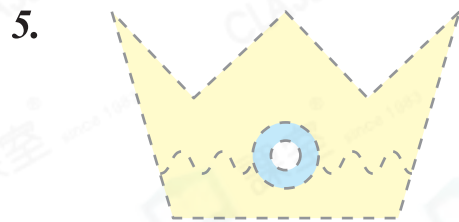
水平線是與水面平行的直線。

例 碼頭的地面是水平線，它與水面互相平行。

把圖中的平行線填上顏色，並在_____上寫出平行線的數量。




_____ 組



_____ 組



_____ 組



_____ 組

8. 下列哪一個圖形只有一組平行線？

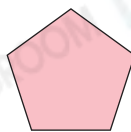
○ A.



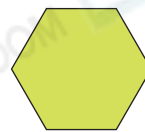
○ B.



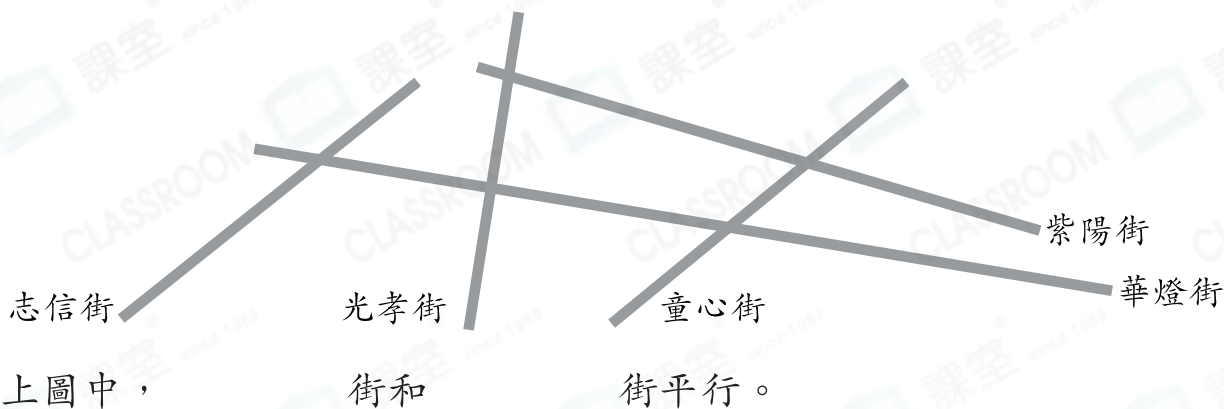
○ C.



○ D.



9.



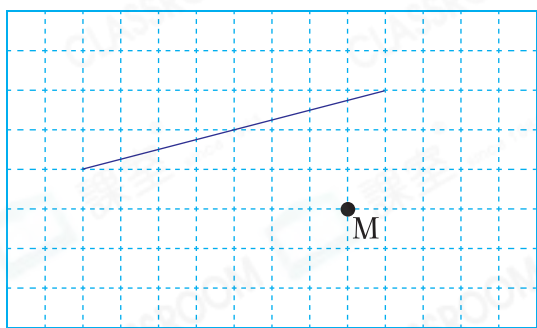
10. 觀察下列英文字母，並寫出所有答案。

A E V H Z

列出有平行線的英文字母。

答案：_____

11.



在左圖中，經過M點畫一條與原有直線平行的直線。

12. 右圖中，直線m和n平行。線段_____和_____的長度都可代表直線m和n之間的距離，這兩條線段的長度★相等 / 不相等 (★圈出答案)。

