

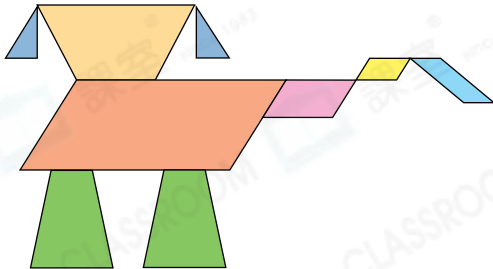


日期：\_\_\_\_\_

成績：\_\_\_\_\_



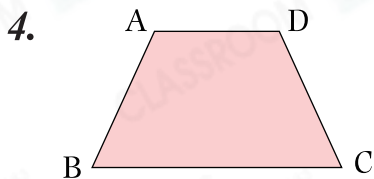
數一數。



1. \_\_\_\_\_ 個梯形
2. \_\_\_\_\_ 個平行四邊形
3. \_\_\_\_\_ 個三角形

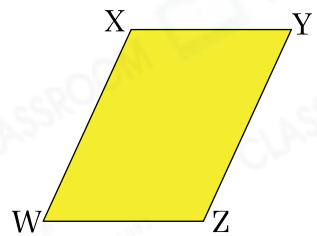


回答下列各題及圈出答案。



- (a) 左圖是一個 \_\_\_\_\_ 形。
- (b) 線段 \_\_\_\_\_ 是上底，線段 \_\_\_\_\_ 是下底，它們互相（平行 / 不平行）。

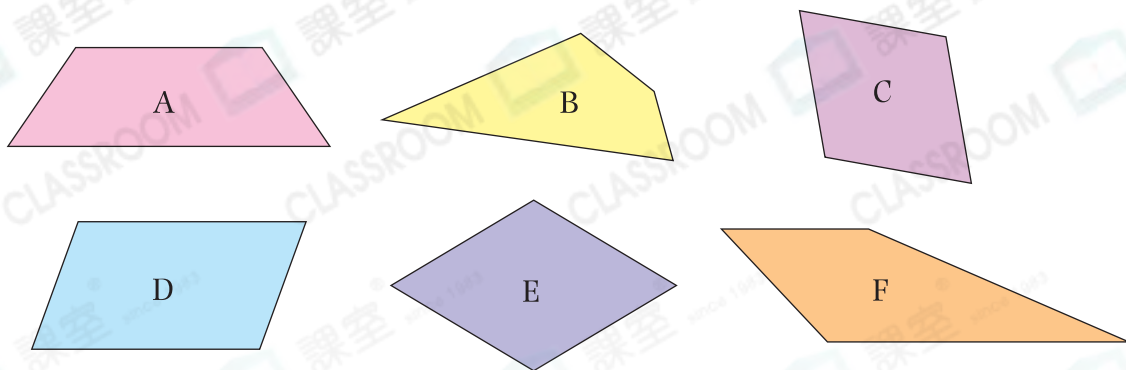
5. (a) 右圖是一個 \_\_\_\_\_ 形。
- (b) XY 和 \_\_\_\_\_ 平行。
- (c) XW 的長度和 \_\_\_\_\_ 的相等，XY 的長度和 \_\_\_\_\_ 的相等。



下列描述中，正確的在空格內加「✓」，錯誤的加「×」。

6. 梯形只有一對對邊平行。
7. 平行四邊形只有一對對邊的長度相等。
8. 平行四邊形具備正方形的所有性質。
9. 所有正方形和長方形皆是平行四邊形。

10.



(a) 上圖中，哪些圖形是平行四邊形？（寫出所有代表答案的英文字母）

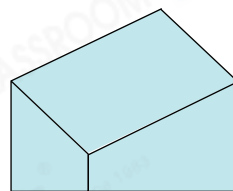
答案：\_\_\_\_\_

(b) 上圖中只有一對對邊平行的四邊形是★ \_\_\_\_\_ 和 \_\_\_\_\_ 。

（★寫出代表答案的英文字母）它們是\_\_\_\_\_形。

11. 右圖由一個\_\_\_\_\_形和兩個

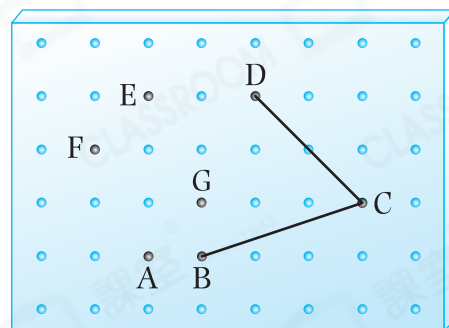
\_\_\_\_\_形組成。




12. 遠明嘗試在右圖的釘板上圍出一個平行四邊形。

他應選用釘板上的★ A / E / F / G


（★圈出答案）點，才能與B、C和D點圍出一個平行四邊形。



13. (a) 在圖一中畫出一個有垂直線的梯形。



圖一



圖二

(b) 在圖二中畫出一個平行四邊形。