




日期：_____

成績：_____




圈出較重的物件。

1.



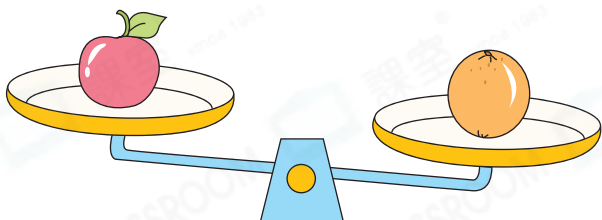
(杯子 / 氣球)

2.



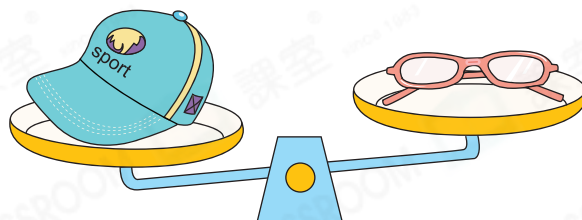
(時鐘 / 手錶)

3.



(蘋果 / 橙)


4.




(帽子 / 眼鏡)



填一填。



5. 漿糊筆重_____粒波子。



6. 膠紙重_____粒波子。

7. 把三件物件按重量由輕至重排列出來。(寫出代表答案的英文字母)

A. 漿糊筆

B. 膠紙

C. 一粒波子

答案：_____，_____，_____

(最輕)

(最重)

STEAM 百科

藍鯨是現存最重的動物。
一頭藍鯨的重量約等於25頭非洲象的重量。

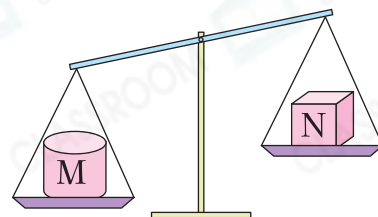
8. 以下哪一件物件最重？

- A. 樹葉 ○ B. 紙 ○ C. 書包 ○ D. 襪子




9. 觀察右圖，以下哪一項描述是正確的？

- A. M比N重。
○ B. M比N輕。
○ C. M和N一樣重。
○ D. 無法比較M和N的重量。



10.



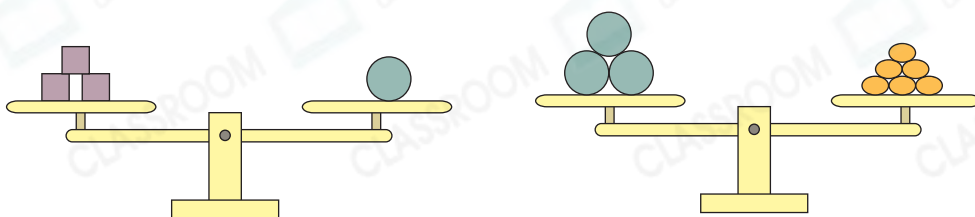
得分重點

從天平兩個稱盤拿走相同的物件後，天平仍然平衡。









上圖的天平現在平衡，一個  和多少個  的重量相同？

答案：_____ 個

11.



觀察上圖，以下哪一項是正確的？

- A.  比  重。
○ B.  和  的重量相同。
○ C.  和  的重量相同。
○ D.  比  輕。