




日期：_____

成績：_____

寫出物件的重量，並填上單位。

1.

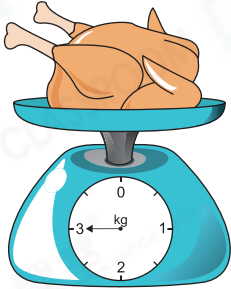





克(g)和公斤(kg)是重量單位。

1公斤 = 1000克

2.



3.



估計物件的重量，在 內加「✓」。

4.



50 克



500 克

5.

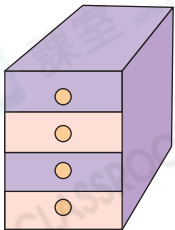


1 公斤



100 克

6.



10 公斤



100 公斤

7.

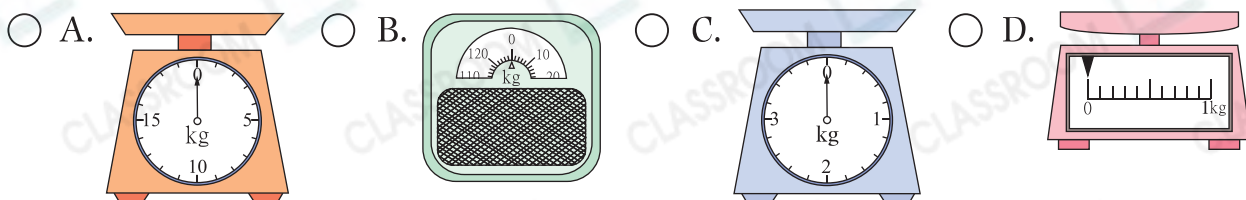


300 克




3000 克

8. 以下哪一個磅最適合用來量度媽媽的體重？


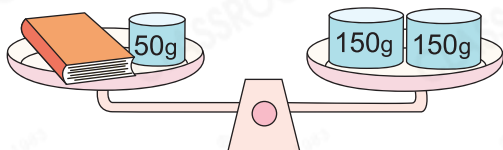


9.  的重量可能是

- A. 2kg ○ B. 3kg
○ C. 4kg ○ D. 5kg



10.



(a) 一本書重_____克。

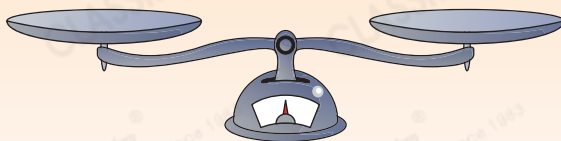
(b) 一個杯子比一本書  重 / 輕 ( 圈出答案) _____ 克。

腦力挑戰站



詳盡提示

一袋麵粉重 500 克，需要分成 300 克和 200 克。現在只有一個天平、一個 25 克砝碼和一個 50 克砝碼。如果只可稱兩次，你知道怎樣稱嗎？



答案：第一次用 25 克砝碼和 50 克砝碼稱出 _____ 克麵粉。第二次用 _____ 克砝碼和第一次稱出的 _____ 克麵粉稱出 _____ 克麵粉。把第一次和第二次稱出的麵粉混合起來，便有麵粉：
+ _____ = _____ (克)，剩下的麵粉剛好重：
_____ - _____ = _____ (克)。