



日期：\_\_\_\_\_

成績：\_\_\_\_\_ /26

時限： 30分鐘

○ 練習 9 - 16

範疇	評估重點	題目	得分
數	◇ 除法	1 - 10	/14
度量	◇ 重量	11 - 14	/5
圖形與空間	◇ 平行線 ◇ 平行四邊形      ◇ 梯形	15 - 20	/7

**自我評估**

20-26分

14-19分

0-13分

1.  $96 \div 6 =$  \_\_\_\_\_

2.  $452 \div 3 =$  \_\_\_\_\_

3.  $270 \div 9 \div 5 =$  \_\_\_\_\_

4. 75 除以 2，商是 \_\_\_\_\_，餘數是 \_\_\_\_\_。

5. 媽媽花 832 元買了 4 盒面膜，每盒面膜有 8 片，每片面膜價值 \_\_\_\_\_ 元。

6. 製作一個紙燈籠需要 5 張顏色紙。安妮有 68 張顏色紙，最多可做紙燈籠多少個？

A. 340 個

B. 63 個

C. 14 個

D. 13 個

7. 每塊展板最多可貼 6 幅圖畫，現有 75 幅圖畫，共可貼滿展板多少塊？餘下圖畫多少幅？(列式計算)

評分欄



1分



1分



1分



1分



1分



1分



1分



1分



1分



1分



1分



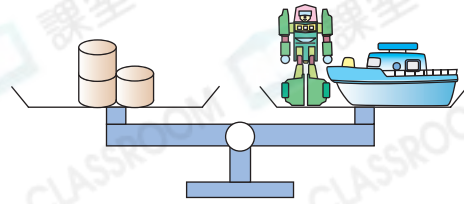
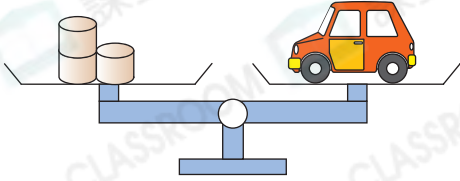
1分



1分



13.




細閱上圖，以下哪一項是正確的？


- A.  比  重。
- B.  比  重。
- C.  和  一樣重。
- D. 無法比較  和  的重量。

1分

14. 外公在水果店買了三種水果。



(a) 哈密瓜的重量是\_\_\_\_\_。(答案須填上單位)

(b) 西瓜比榴槤  輕 / 重 ( 圈出答案)。

1分


1分

15. 下列哪一個圖形與其他的不同類？

- A. 
- B. 
- C. 
- D. 

1分


16. 右圖有  一對 / 兩對 ( 圈出答案) 對邊平行，它是一個\_\_\_\_\_形。



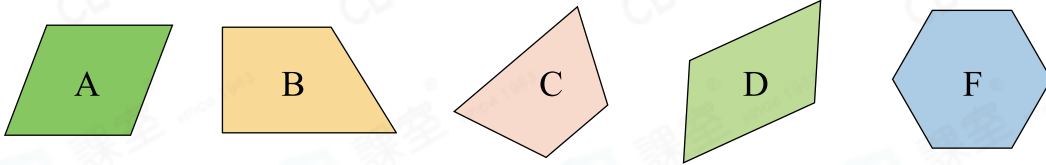
1分



17. 下圖有一條直線，在圖上畫出一條與它平行的直線。



18.



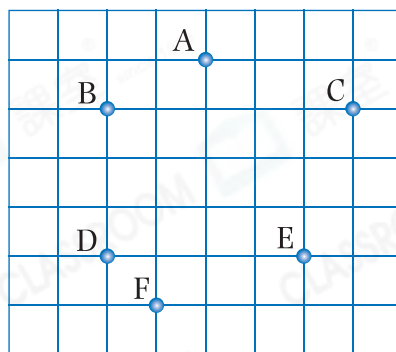
(a) 上圖中，哪個/些圖形只有一組平行線？寫出所有代表答案的英文字母。

答案：\_\_\_\_\_


(b) 上圖中，兩對對邊平行且相等的四邊形是★  
和\_\_\_\_\_。(★寫出代表答案的英文字母)  
它們是\_\_\_\_\_形。

19. 右圖中有六點，應選用哪四點才能圍出一個梯形？把代表答案的英文字母寫在橫線上。

答案：\_\_\_\_\_，\_\_\_\_\_  
\_\_\_\_\_，\_\_\_\_\_



20.



把左面的長方形卡紙沿虛線剪開，  
可剪出一個\_\_\_\_\_形和兩個  
\_\_\_\_\_形。

別一剔

完成所有題目

已檢查答案

