

練習 1 - 16

範疇	評估重點	題目	得分
數	◇ 五位數 ◇ 除法 ◇ 乘法	1 - 16(b)	/23
度量	◇ 公里 ◇ 毫米 ◇ 時間 ◇ 重量 ◇ 24小時報時制	16(c) - 24	/14
圖形與空間	◇ 平行線 ◇ 平行四邊形 ◇ 梯形	25 - 31	/9

自我評估

35-46分 

24-34分 

0-23分 

1. 根據右面的提示，寫出一個五位數。

--	--	--	--	--

數字「0」是在百位，
 數字「1」是在十位，
 數字「2」是在萬位，
 數字「5」是在個位，
 數字「7」是在千位。

2. 寫出一個比 79985 大，又比 80013 小的奇數。

答案：_____

3. 抽獎券依編號順數排列，被拿走一些後，餘下以下的抽獎券。

抽獎券 NO. 69501	抽獎券 NO. 69502	抽獎券 NO. 69505	抽獎券 NO. 69507
-------------------------	-------------------------	-------------------------	-------------------------

最少有_____張抽獎券被拿走了。

4. $108 \times 6 =$ _____

5. $125 \times 7 \times 4 =$ _____

6. $95 \div 8 =$ _____

7. $336 \div 3 \div 7 =$ _____

評分總



15. 一條繩子長8米，每9厘米剪成一段，最多可剪成長度相同的繩子多少段？(列式計算)



- 1分
- 1分
- 1分

16.



繪畫班

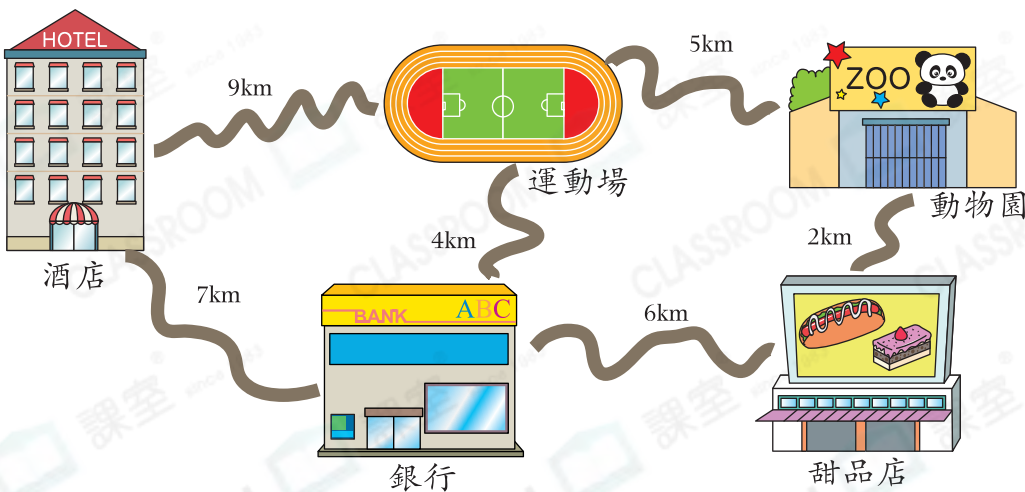
日期：八月逢星期六
每班人數：9人

時間：9:30 a.m.-10:30 a.m.
學費：\$350

- (a) 有320人報名參加繪畫班，即最少要開辦_____班。
- (b) 八月有5個星期六，平均每堂課的費用是_____元。
- (c) 繪畫班每堂課長_____小時。

- 1分
- 1分
- 1分


17. 細閱下圖，把答案寫在橫線上。



- (a) 由銀行經_____前往動物園，只需走8km。
- (b) 由動物園前往酒店，最短的路程是_____ km。

- 1分
- 1分

18. 張太太購買了一部智能手機。在橫線上填上適當的度量單位。



智能手機規格

機身厚度：8 _____

手機重量：160 _____

1分
1分





19. 以下書籤的長度是60毫米，用尺子量度它的闊度。

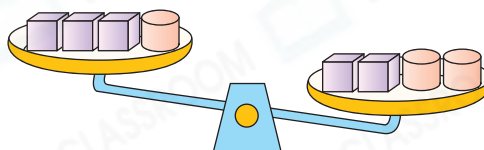



書籤的闊度是_____毫米，它的闊度與長度相差_____毫米。

1分
1分
1分

20. 觀察右圖，以下哪一項是正確的？


- A.  和  的重量相等。
- B.  比  輕。
- C.  比  重。
- D. 無法比較  和  的重量。




21. 一堂音樂課長35分鐘，音樂課在  結束，即在 _____ 午 _____ 時 _____ 分開始。

1分

22.



開始時間



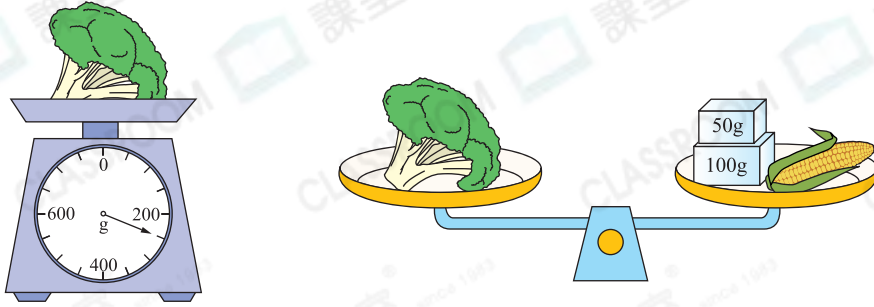
結束時間

上圖顯示浩文游泳30米所用的時間，他所用的時間比半分鐘

★ 長 / 短 (★ 圈出答案)。

1分

23.



(a)  的重量是 _____ 。（答案須寫上單位）

(b)  比   輕 / 重 _____ g 。（ 圈出答案）

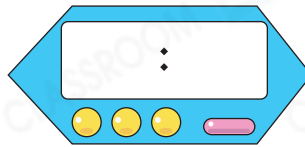
1分

1分

24. 今天學校進行畢業典禮的綵排，下圖電子鐘顯示綵排的時間。



開始時間



結束時間

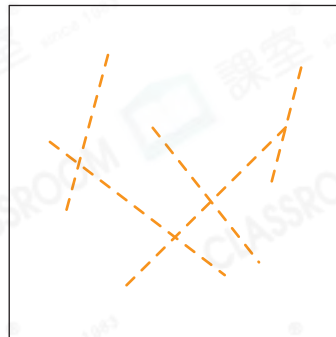
(a) 綵排在 _____ 午 _____ 時 _____ 分開始。

(b) 綵排共進行了50分鐘，用「24小時報時制」在上圖的電子鐘上寫出綵排結束的時間。

1分

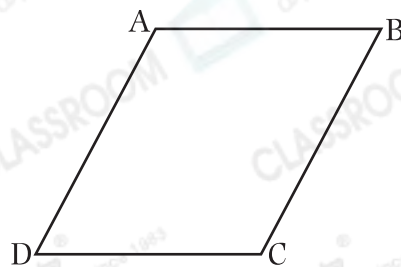
1分

25. 在右圖中沿着虛線畫出一組平行線。



1分

26. 右圖是一個平行四邊形，如果AD的長度是6cm，AB的長度是5cm，則DC的長度是 _____ cm。

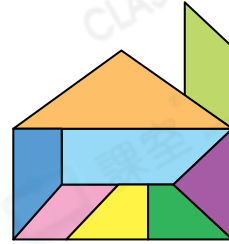


1分

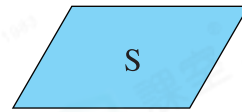

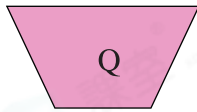

27. ☆ 長方形 / 正方形 / 梯形 具有平行四邊形的所有特性。
(☆ 圈出所有答案)

28. 玉瑩用不同的平面圖形拼砌了一幢房子。

- (a) 右圖有 _____ 個梯形。
(b) 右圖有 _____ 個平行四邊形。



29. 觀察下列各圖，寫出所有代表答案的英文字母。

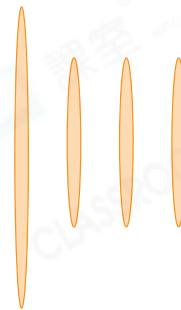


列出有兩組平行線的圖。

答案： _____

30. 利用右面的竹籤，可以拼成下列哪種四邊形？

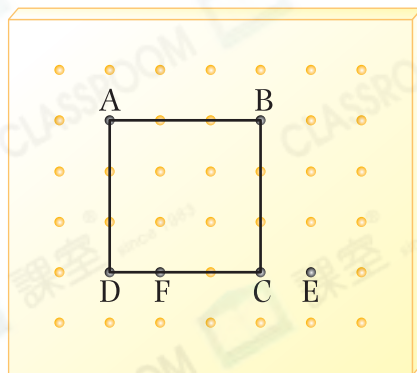
- A. 正方形
 B. 長方形
 C. 梯形
 D. 平行四邊形



31. 思敏用橡皮圈把 A、B、C 和 D 點圍起來。

(a) 她圍出了一個 _____ 形。

(b) 她把橡皮圈由 C 點移往 E 點，
D 點移往 F 點，將會圍出一個 _____ 形。



別一別

- 完成所有題目
 已檢查答案