

第四次小測 (3上數學科)

姓名：

日期：

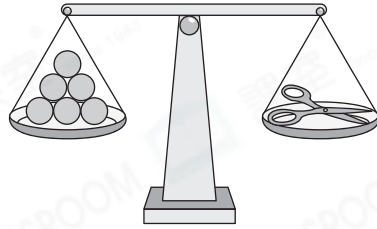
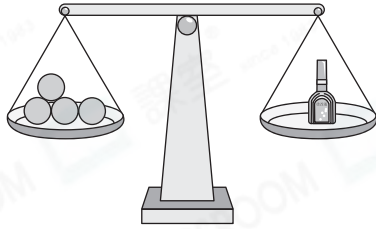
班別： ()

總分： /12

時限： 15分鐘

(範圍：練習13-16)


一、比較下列各物件的重量。(2分)




1. 塗改液重 _____ 粒膠珠。

2. ☆ 塗改液 / 剪刀 較輕。(☆圈出答案)

二、填寫下列各物件的重量。(2分)

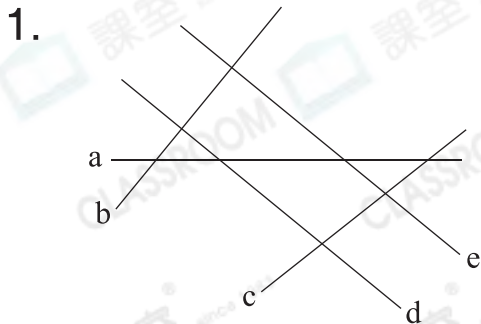


_____ 克



_____ 公斤 _____ 克

三、回答下列各題。(5分)



左圖中，直線 _____ 和直線 _____ 是一組平行線。

2. 觀察下圖，寫出所有代表答案的英文字母。




(a) 平行四邊形：_____

(b) 梯形：_____

3. ☆ 正方形 / 梯形 / 平行四邊形 有兩對對邊平行。

(☆ 圈出所有答案)



把左面的長方形沿着虛線剪開後，可得到_____個_____形。


四、繪圖題(3分)

1. 在右面的方格紙上繪畫一組平行線。



2. 在釘板上繪畫指定的圖形。

(a) 梯形



(b) 平行四邊形

