

6

秒



日期：_____

成績：_____



寫出時間間隔。

1.



開始時間




結束時間

過了_____秒。

2.



開始時間



結束時間

過了_____秒。



老師用電子秒錶記錄學生的跑步時間，在橫線上填上答案。

| | 開始時間 | 結束時間 |
|-----------|------|------|
| <u>志堅</u> | | |
| <u>永珍</u> | | |

3. 永珍跑步用了_____秒。

4. 用時較少的學生是_____。

5. 在橫線上填上適當的時間單位。

(a) 一堂中文課的時間約是 35 _____。

(b) 升降機從 1 樓升至 10 樓約需要 11 _____。

6. 下列哪一項活動可以在 30 秒內完成？

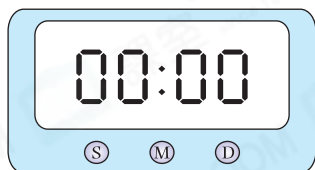
A. 跑完 500 米。

B. 洗澡一次。

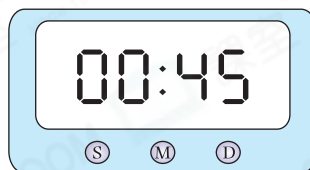
C. 寫 200 個字。

D. 穿一雙襪子。

7. 下圖兩個電子秒錶顯示家慧跳繩 50 下的開始時間和結束時間。




開始時間




結束時間

秀文跳繩 50 下所用的時間和家慧相差 6 秒，秀文所用的時間最多是 _____ 秒。

8.



時鐘 A



時鐘 B

時鐘 A 和時鐘 B 分別顯示家俊和志豪昨天下午到達觀星台的時間。家俊比志豪 早 / 遲 (圈出答案) _____ 秒到達觀星台。

9. 右表是闖關比賽首 3 名完成比賽的參賽者所用的時間。

(a) 第一名比第三名快 _____ 秒。

(b) 如果比賽在 2:15 p.m. 開始，即啟文在 _____ 午 _____ 時 _____ 分 _____ 秒完成比賽。

| 參賽者 | 所用時間 |
|-----------|------|
| <u>卓林</u> | 53 秒 |
| <u>啟文</u> | 1 分鐘 |
| <u>俊業</u> | 49 秒 |