

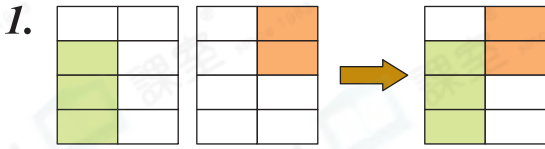


日期：\_\_\_\_\_

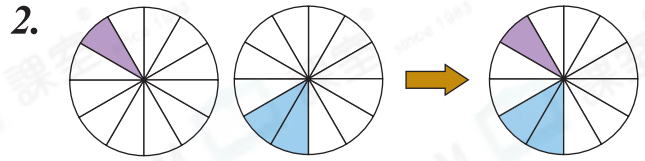
成績：\_\_\_\_\_



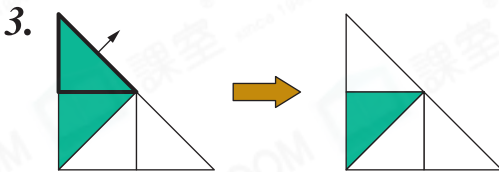
看圖算一算。



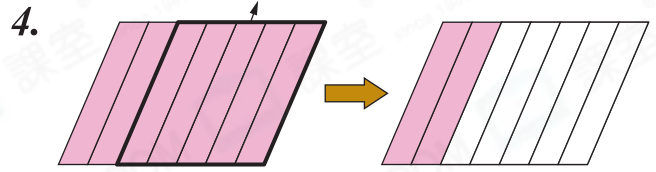
$$\frac{3}{3} + \frac{2}{3} = \boxed{\phantom{00}}$$



$$\frac{1}{12} + \frac{2}{12} = \boxed{\phantom{00}}$$



$$\frac{2}{4} - \frac{1}{4} = \boxed{\phantom{00}}$$

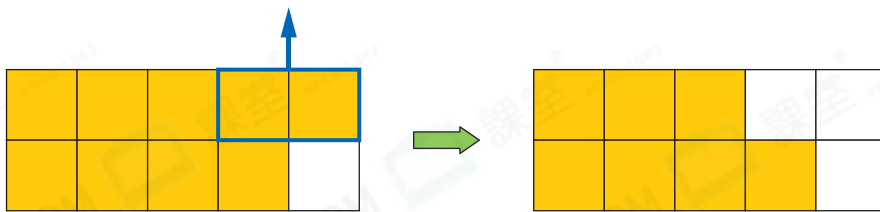


$$1 - \boxed{\phantom{00}} = \boxed{\phantom{00}}$$



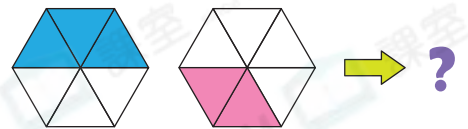
列式計算下列各題。

5. 一塊麥地，有 $\frac{9}{10}$ 尚未收割，再收割 $\frac{2}{10}$ 後，未收割的麥地還有多少？



未收割的麥地還有：\_\_\_\_\_

6. 弟弟把一個六邊形分成 6 等份，然後把整個圖形的 $\frac{3}{6}$ 填上藍色，再把整個圖形的 $\frac{2}{6}$ 填上紅色，填色部分佔整個圖形的幾分之幾？



填色部分佔整個圖形的：\_\_\_\_\_

7. 德恆把一個蛋糕切成8等份，如右圖所示。他取去 $\frac{2}{8}$ 個蛋糕，妹妹和弟弟各取去 $\frac{1}{8}$ 個。下列哪一道算式可以找出他們共取去蛋糕多少個？



○ A.  $\frac{1}{8} + \frac{1}{8}$

○ B.  $\frac{2}{8} + \frac{1}{8}$

○ C.  $\frac{2}{8} + \frac{1}{8} + \frac{1}{8}$

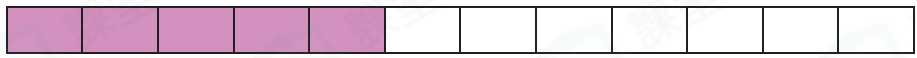
○ D.  $\frac{2}{8} + \frac{2}{8} + \frac{1}{8}$

8.  $\frac{7}{12}$ 盒貼紙，家文取走了 $\frac{1}{12}$ 盒，家清取走了 $\frac{5}{12}$ 盒。

家文取走了 $\frac{1}{12}$ 盒



家清取走了 $\frac{5}{12}$ 盒



兩人取走的貼紙相差 


 盒。

9. 一袋麵粉分三次用完，第一次用去 $\frac{1}{9}$ 袋，第二次用去 $\frac{5}{9}$ 袋，第三次用去 $\frac{3}{9}$ 袋。

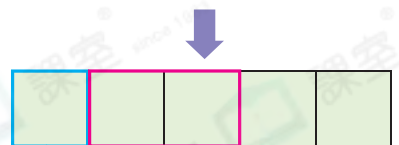
(a) 把下圖塗上三種顏色，分別表示三次用去麵粉佔一袋麵粉的分數。



(b) 第二次和第三次共用去 


 袋麵粉。

10. 婉珊把一張畫紙分成5等份，上午用了1份，下午用了2份，還餘下畫紙多少張？(列式計算)



上午用了1份

下午用了2份