

練習 9 - 15

範疇	評估重點	題目	得分
數	<ul style="list-style-type: none"> <li>分數的認識</li> <li>分數的大小比較</li> <li>同分母分數加法和減法</li> </ul>	1 - 9	/14
度量	<ul style="list-style-type: none"> <li>容量</li> </ul>	10 - 13	/4
數據處理	<ul style="list-style-type: none"> <li>棒形圖</li> </ul>	14 - 15	/6

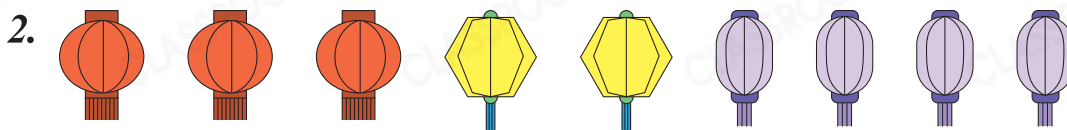
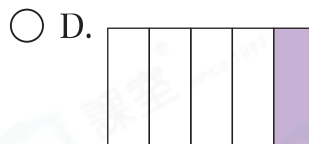
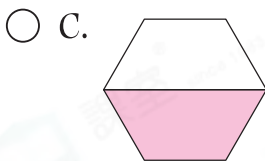
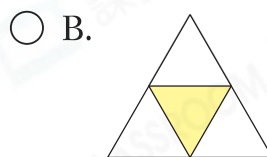
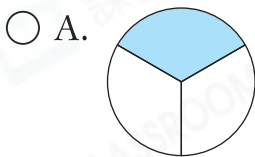
### 自我評估


19-24分 



13-18分 

0-12分 

1. 下列哪一個圖的着色部分多於全圖的  $\frac{1}{3}$  ?



(a)  佔全部燈籠的  $\frac{\square}{\square}$ 。

(b) 明威拿走全部  的  $\frac{3}{4}$ ，即拿走了 \_\_\_\_\_ 個 。

3. 把下列各數由大至小排列出來。

$\frac{8}{15}$ ,  $\frac{11}{13}$ ,  $\frac{11}{15}$

答案：  ,  ,

(最大) (最小)

評分欄



4. 下列哪一項是正確的？

A.  $\frac{5}{9} > \frac{8}{9}$

B.  $\frac{4}{4} = 4$

C.  $\frac{5}{6} < \frac{6}{6}$

D.  $\frac{1}{15} > \frac{1}{12}$


5. 在空格內填上適當的數字。

$$\frac{\boxed{\phantom{000}}}{9} = \frac{13}{\boxed{\phantom{000}}} = 1$$

6. 用鉛筆塗黑右圖，使黑色部分佔全圖的  $\frac{4}{10}$ 。




7. 一個月餅，妹妹吃了  $\frac{3}{8}$  個，姊姊吃了  $\frac{1}{8}$  個。

妹妹吃了  $\frac{3}{8}$  

姊姊吃了  $\frac{1}{8}$  

他們共吃了  $\frac{\boxed{\phantom{00}}}{\boxed{\phantom{00}}}$  個月餅。

8. 課室公司 共有 14 人參加步行籌款，當中有 1 名 美國人， $\frac{2}{7}$  是 泰國人，其餘的都是本地人。



(a) 共有 \_\_\_\_\_ 名 泰國人。

(b) 本地人佔全部參加者的  $\frac{\boxed{\phantom{00}}}{\boxed{\phantom{00}}}$ 。



1分



1分



1分



1分



1分

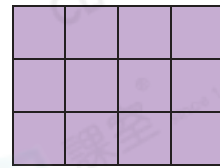


1分



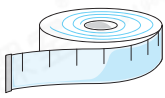
1分

9. 媽媽買了一塊牛油，她做蛋糕用了  $\frac{5}{12}$  塊，做餅乾用了  $\frac{1}{12}$  塊，餘下牛油多少塊？(列式計算)



10. 下列哪一種工具最適合用來量度一個  的容量？

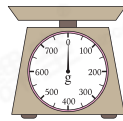
A.



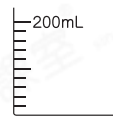
B.





C.




D.





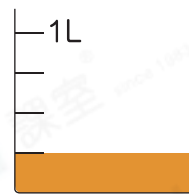
11. 盛滿水的  剛好注滿  。

盛滿水的  剛好注滿  。

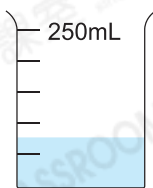
盛滿水的  剛好注滿 \_\_\_\_\_ 個  。



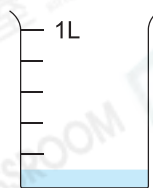
12. 把右圖的橙汁全部注入  ，剛好盛滿半罐，  
 的容量是 \_\_\_\_\_ 。（答案須寫上單位）



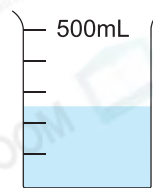
13. 把下列三個容器內的水，由多至少排列出來。寫出代表答案的英文字母。



A



B



C

答案： \_\_\_\_\_ ， \_\_\_\_\_ ， \_\_\_\_\_  
 (最多) (最少)



14. 下表顯示上半年老師使用實驗室的次數。

月份	一月	二月	三月	四月	五月	六月
次數(次)	5	15	35	45	20	10

老師想根據上表的數據製作一個棒形圖，他應選擇每格代表

★ 1次 / 2次 / 5次 (★圈出答案)最合適。

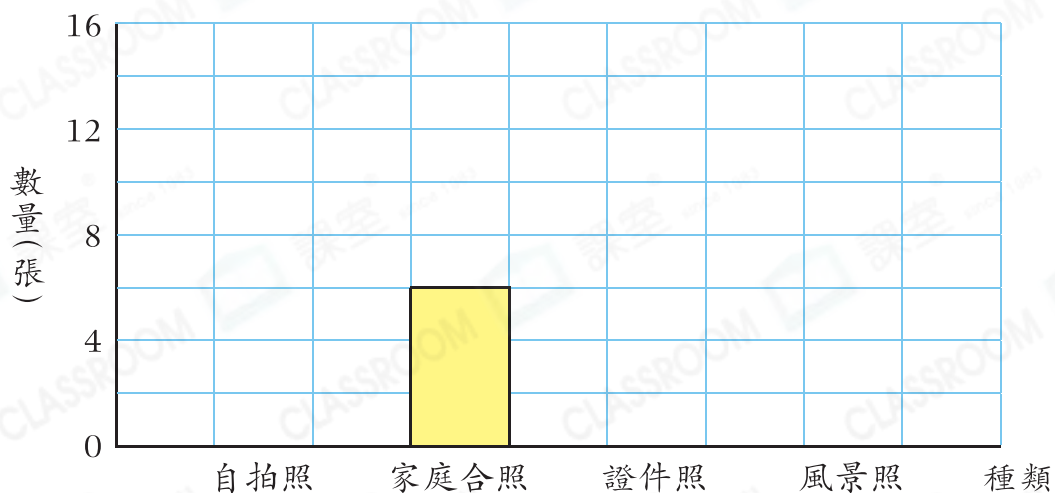
15. 素芳統計了智能手機裏各類相片的數量。

(a) 根據記錄，完成下表。

種類	自拍照	家庭合照	證件照	風景照
記錄	正正正	正一	丁	正正正一
數量(張)				

(b) 根據以上資料，完成下面的棒形圖，並加上標題。

(標題)



(c) 證件照比自拍照少 \_\_\_\_\_ 張。

(d) 沖印一張相片的費用是2元，素芳把所有家庭合照和風景照沖印出來，共須付 \_\_\_\_\_ 元。

**剔一剔**

完成所有題目

已檢查答案