

應用題訓練一



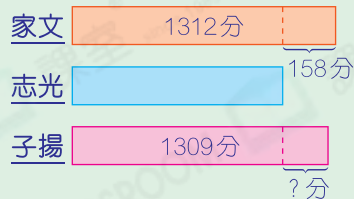
日期：_____

成績：_____

- 加減混合運算 ○ 乘加和乘減混合運算

1. 遊戲中家文得1312分，比志光多158分。子揚得1309分，比志光多幾分？

圖解



2. 可怡買了825克葡萄，比荔枝多597克，她買的這兩種水果共重多少克？

提示


先考慮荔枝的重量，再計算兩種水果的總重量。

3. 有60枝棉花棒，嘉欣5月21日至29日每天用去6枝，餘下多少枝？

提示

先找出用了多少天。

4. (a) 一條領巾比一條裙子便宜29元。媽媽買兩條裙子，共須付多少元？



148元

提示

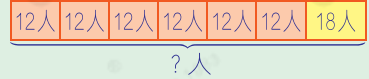
留意題目不只是求買3條領巾須付的款項。

- (b) 媽媽再買3條領巾，她買裙子和領巾共用去_____元。

5. 導師將一隊童軍分為7組，其中6組各有12人，剩下一組有18人。這隊童軍有多少人？

圖

解



6.



慧娟買了巧克力和果汁糖各3包，共重多少？

提示

先考慮一包巧克力和一包果汁糖的總重量。

7. 老師原有4包手工紙，每包有28張。用了36張後，還餘手工紙多少張？

提示

先計算老師原有手工紙的數量。

8. 玩具店原有15個熊公仔，每個售120元。售出9個後，每個熊公仔現減價17元。玩具店售出餘下熊公仔共收得多少元？

提示

先計算餘下熊公仔的數量和減價后的價格。