

# 應用題訓練二



日期：\_\_\_\_\_

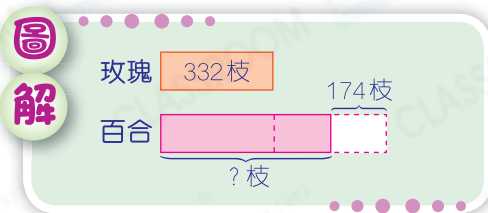

成績：\_\_\_\_\_

- 加減混合運算    ○ 乘減混合運算    ○ 同分母分數的運算

1. 兩兄弟各有 450 元，哥哥買字典用去 216 元。弟弟比哥哥多用 13 元後，弟弟剩下多少元？



2. 花店有 332 枝玫瑰，百合比玫瑰的 2 倍少 174 枝，即有百合多少枝？



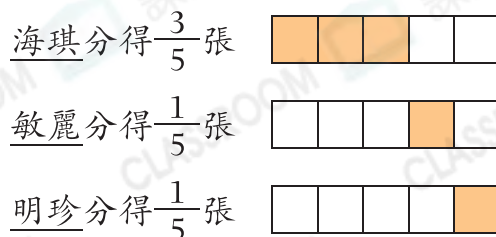

3. 一張椅子原價 740 元，現在減價 199 元。子仁付 2500 元買 4 張椅子，應找回多少元？



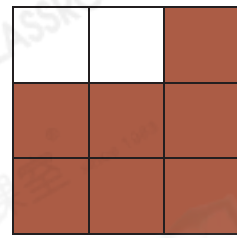
**提示**

先計算以特價買四張椅子須付的款項。

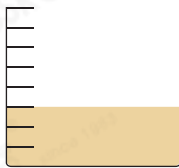
4. 海琪、敏麗和明珍分一張手工紙，如右圖所示。敏麗和明珍共分得多少張？



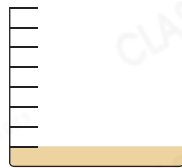
5. 家裏還有 $\frac{7}{9}$ 件紅豆糕，弟弟吃了 $\frac{3}{9}$ 件，媽媽吃了 $\frac{2}{9}$ 件。餘下紅豆糕多少件？




6.



$\frac{3}{8}$ 杯果汁



$\frac{1}{8}$ 杯蘇打水



$\frac{4}{8}$ 杯汽水

將以上三個量杯內的果汁、蘇打水和汽水混合後，可製成特飲多少杯？




提示

先找出混合前每種飲品各佔多少格，再找出混合後共佔多少格。

7. 把一個薄餅切成 10 等份，子聰吃了 $\frac{3}{10}$ 個，子敏吃了 4 塊。

(a) 餘下薄餅多少個？



提示

先找出子敏吃的薄餅佔整個薄餅的幾分之幾。

(b) 兩人吃的薄餅相差  $\frac{\square}{\square}$  個。

