

第三次小測 (3下數學科)

姓名：

日期：

班別：

()

成績：

/19


時限：

15分鐘

(範圍：練習 9 - 11)

一、依分數填色。(4分)

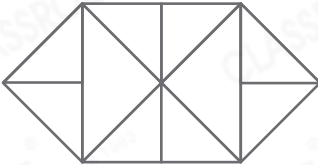
1. $\frac{1}{4}$




2. $\frac{3}{8}$



3. $\frac{5}{12}$



4. $\frac{5}{6}$



二、比較下列各分數的大小。(4分)

1. $\frac{1}{6}$, $\frac{1}{15}$, $\frac{1}{2}$

_____ < _____ < _____

2. $\frac{11}{13}$, $\frac{8}{13}$, $\frac{10}{13}$

_____ > _____ > _____

3. $\frac{1}{10}$, $\frac{3}{4}$, $\frac{1}{4}$

_____ < _____ < _____

4. $\frac{6}{11}$, $\frac{8}{11}$, $\frac{8}{9}$

_____ > _____ > _____

三、回答下列各題。(5分)

1. $\frac{3}{7}$ 讀作什麼？

2. 寫出一個比 $\frac{3}{5}$ 大的分數。

3. 寫出一個等於 1 的分數。

4. 18 的 $\frac{2}{9}$ 是多少？



5. 18 的 $\frac{4}{6}$ 是多少？

1. _____

2. _____


3. _____

4. _____

5. _____

四、列式計算下列各題。(6分)

1. 一盒巧克力，可兒吃了 $\frac{1}{12}$ 盒，妹妹吃了 $\frac{3}{12}$ 盒。
兩人吃的巧克力相差多少盒？



2. 一個月餅，爸爸吃了 $\frac{1}{4}$ 個，姊姊吃了 $\frac{1}{4}$ 個，
弟弟又吃了 $\frac{1}{4}$ 個。他們共吃了月餅多少個？

