

第四次小測 (3下數學科)

姓名：

日期：

班別： ()

成績： /14


時限： 15分鐘

(範圍：練習 12 - 15)

一、填上適當的容量單位：「升」或「毫升」。(3分)



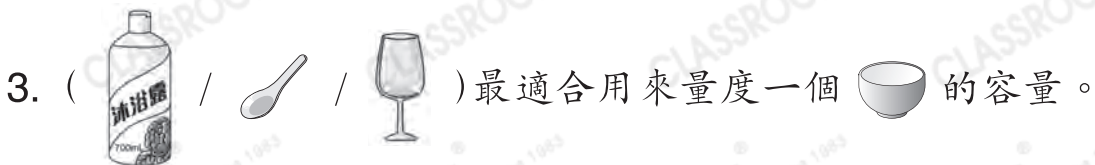
二、圈出答案。(3分)



(水壺 A / 水壺 B) 的容量較大。



(花瓶 A / 花瓶 B) 的容量較小。



三、在橫線上填答案。(4分)

1. 3 升 = _____ 毫升

2. _____ 升 = 12000 毫升

3. _____ mL = 2L200mL

4. 6L5mL = _____ mL

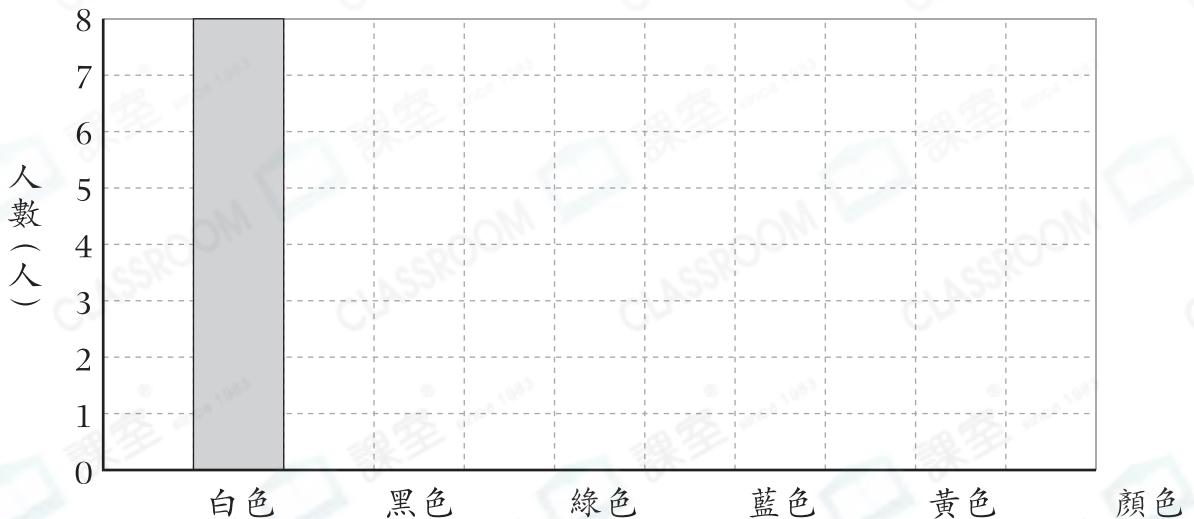
四、回答下列各題。(4分)

顏色	白色	黑色	綠色	藍色	黃色
記錄	正下	正一	正丁	正下	正
人數(人)					

1. 上表顯示 3D 班學生最喜愛的顏色。根據記錄，完成表格。

2. 根據以上資料，完成以下的棒形圖。

3D班學生最喜愛的顏色



3. 最少學生喜愛 _____ 色，只有 _____ 人。

4. 最喜愛白色和黑色的學生共有 _____ 人。