

## 2

## 圓括號



日期：\_\_\_\_\_

成績：\_\_\_\_\_



列出下列各題的計算步驟，並找出答案。

1.  $25 + (50 - 15)$

= \_\_\_\_\_

= \_\_\_\_\_

2.  $72 - (18 + 26)$

= \_\_\_\_\_

= \_\_\_\_\_

3.  $(49 + 21) - 30$

= \_\_\_\_\_

= \_\_\_\_\_

4.  $125 - (98 - 46)$

= \_\_\_\_\_

= \_\_\_\_\_



計算下列各題。


5.  $(54 - 17) + 62 =$  \_\_\_\_\_


6.  $2000 - (111 + 366) =$  \_\_\_\_\_

7.  $35 - (64 - 49) =$  \_\_\_\_\_


8.  $(369 + 234) + 18 =$  \_\_\_\_\_

算式正確的，在  內加「✓」；錯誤的加「×」，並在算式中加上圓括號，使算式正確。

9.   $49 + 36 - 28 = 57$

10.   $108 - 28 + 12 = 68$

11.   $340 + 29 + 7 = 376$

12.   $74 - 31 - 9 = 52$



在算式的開始部分或加號後加上圓括號，算式的答案是不變的。

例  $5 + 4 - 3 = 9 - 3 = 6$   
 $(5 + 4) - 3 = 9 - 3 = 6$   
 $5 + (4 - 3) = 5 + 1 = 6$

13. 下列哪一道算式的結果與「 $567 - (228 + 194)$ 」的相同？

A.  $567 - 228 + 194$

B.  $(567 - 228) + 194$

C.  $567 - 228 - 194$

D.  $567 - (228 - 194)$

14. 偉奇有65枚郵票，家怡有52枚郵票。家怡把23枚郵票送給朋友後，兩人現有的郵票數量相差多少枚？

答案：\_\_\_\_\_枚

15.



子俊

我有50元。



子琪

我有40元。

子俊用了28元9角購買一個筆盒後，子琪的款項比子俊的多

\_\_\_\_\_元\_\_\_\_\_角。

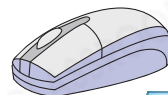
16.



\$250



\$144



\$

(a) 鍵盤比滑鼠貴46元，志聰買一個滑鼠和一副耳機，共須付

\_\_\_\_\_元。

(b) 欣薇有500元，她買了一副耳機和一個鍵盤後，餘下\_\_\_\_\_元。

17. 農場有1326隻雞和1125隻鴨，其中鴨比鵝少16隻。雞比鵝多多少隻？

(列式計算)