



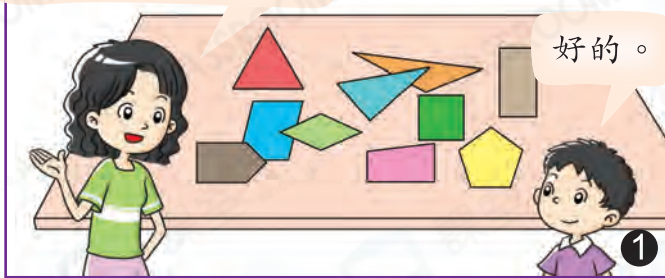
日期：_____

成績：_____



分類整理

子亮，你可以根據形狀把這些平面圖形分類貼在展板上嗎？



分類圖表

① 用表格可同時依兩種性質，例如「形狀」和「是否有直角」來把物件分類。

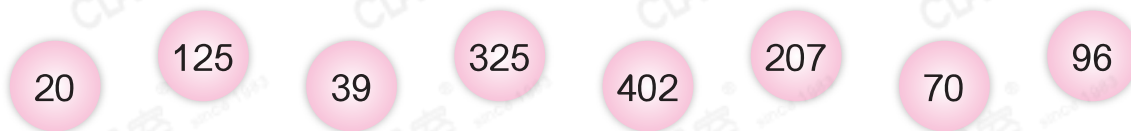
② 每格內的平面圖形同時包含直行和橫行的特性。

	三角形	四邊形	五邊形
有直角			
沒有直角			



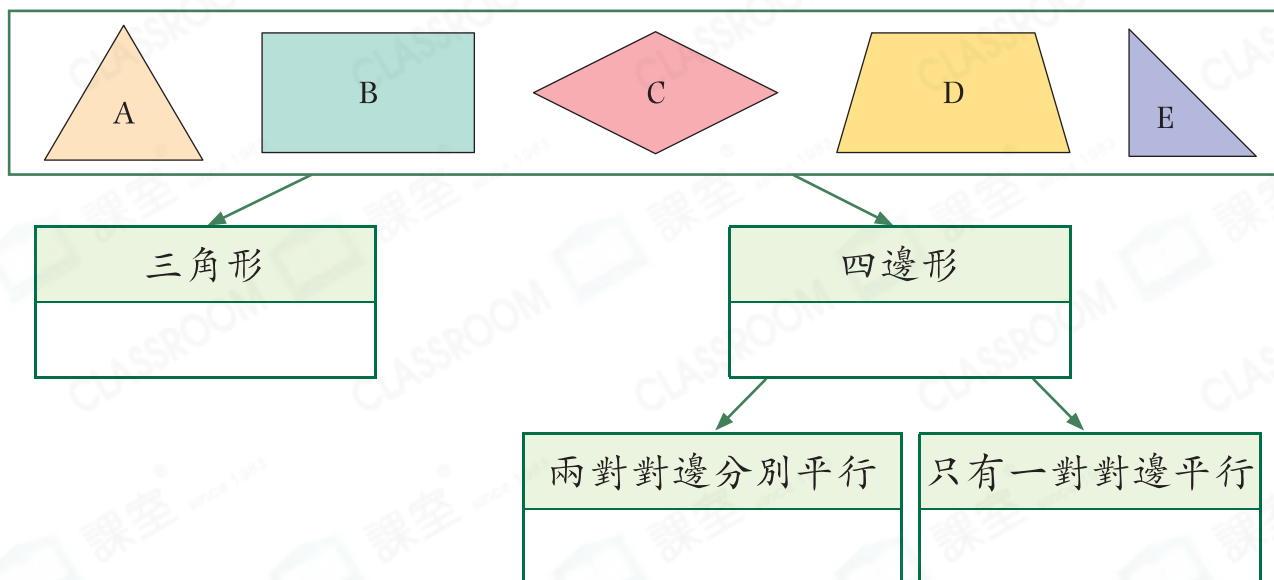
根據指定的條件，完成分類。

1. 把下面的數分類。



	可以被3整除	可以被5整除
偶數		
奇數		

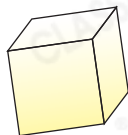
2. 把下面的平面圖形按以下樹形圖完成分類。寫出所有代表答案的英文字母。



3.



A



B



C



D



E

依指示完成下表，寫出代表答案的英文字母。

	有曲面	沒有曲面
只有一個底		
有兩個底		