

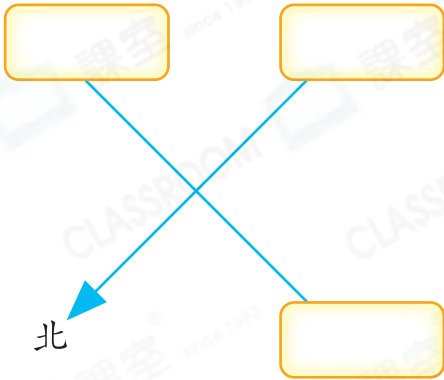


日期：_____

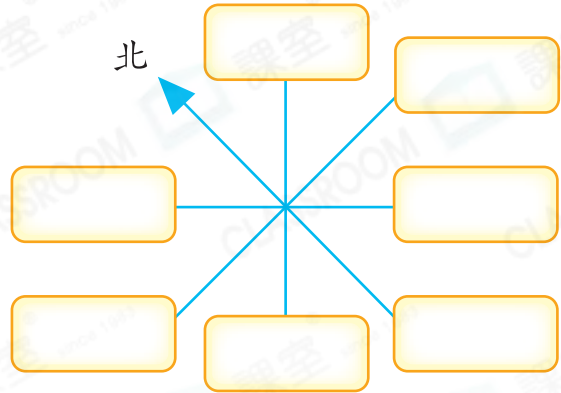
成績：_____

在 內填方向。

1.



2.



根據地圖，回答下列各題。

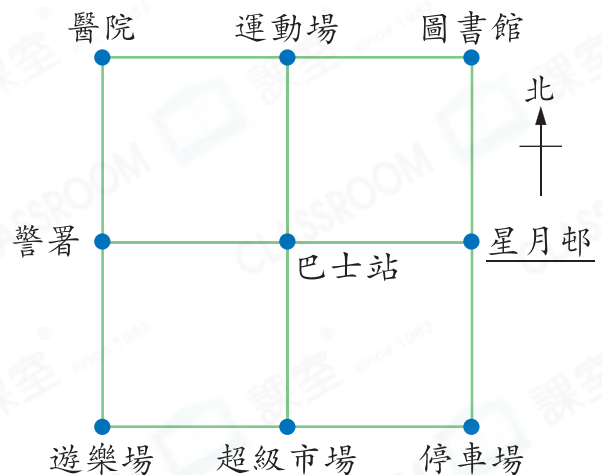
3. 運動場在巴士站的_____方。

4. 星月邨在警署的_____方。

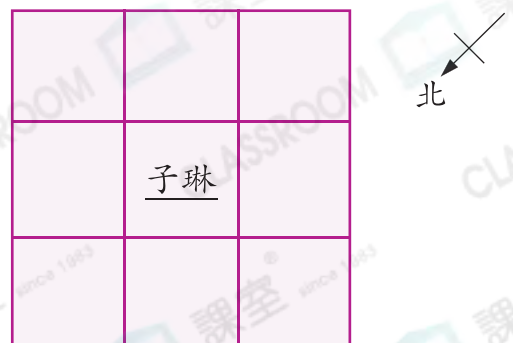
5. 巴士站在醫院的_____方。

6. 遊樂場在圖書館的_____方。

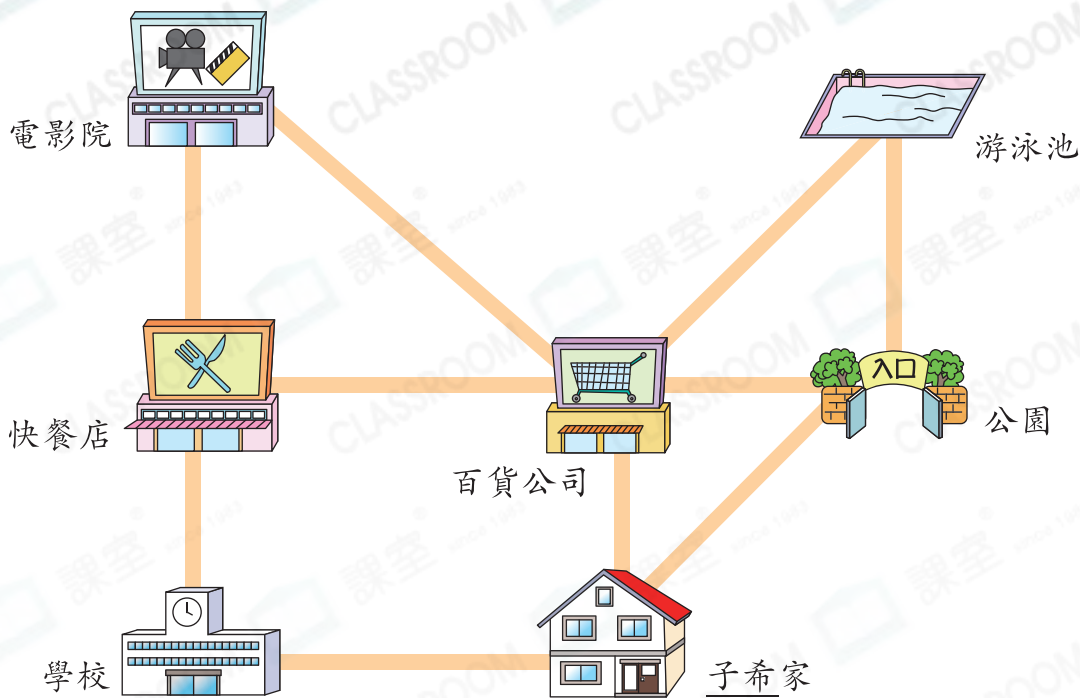
7. 警署在_____的西北方。



根據資料，在圖上填人名。

8. 婉琪在子琳的北方。9. 卓源在子琳的東方。10. 文浩在婉琪的西南方和卓源的西方。

11. 下圖是子希家附近的平面圖。電影院在百貨公司的東方。



(a) 公園在快餐店的_____方。

(b) 快餐店在_____的西北方。

(c) 子希從家出發前往游泳池。

他應先向_____方走到_____後，轉向_____方走，便可到達游泳池。

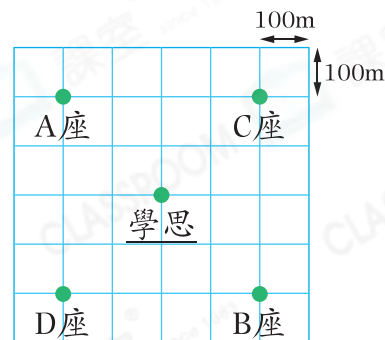
STEM 百科

天文台每天都會發佈有關風向的資訊，例如若當天吹「東北風」，即風由東方吹來。

12. 右圖是朝明苑的地圖。B座在C座的東方。

(a) 學思要去D座，應向_____方走。

(b) 學思到達D座後，往西南方走了200米，再往西北方走了300米。在右圖中加上「X」表示學思現在的位置。



13. 莉雲向右轉一個直角後，面向西南方，她原來面向哪一方？

答案：_____方

進階 14. 張太太駕車向東方行駛了4km，再轉向南方行駛了4km。如果她想以最短的路程返回起點，她應向_____方駕駛。