

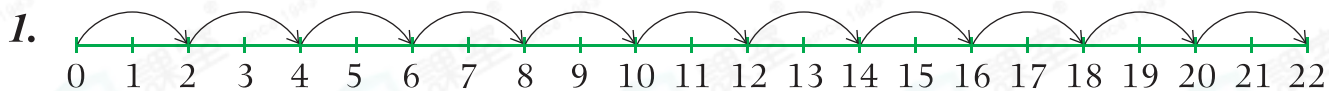


日期：_____

成績：_____



回答下列各題。



2 的第一個倍數是_____，

第十個倍數是_____。


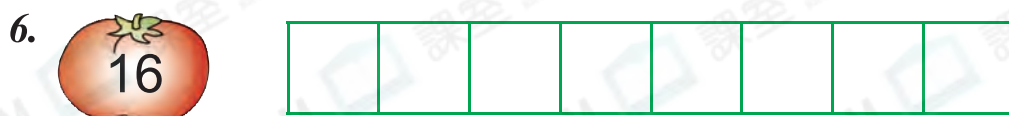


3 的第二個倍數是_____，

第七個倍數是_____。



寫出下列各數的首 8 個倍數。



8. 以下哪個數是6的第4個倍數？

A. 12

B. 24

C. 32

D. 36

9. 列出100以內，27的所有倍數。

答案：_____

10. 以下哪些數是12的倍數？(圈出所有答案)

36

54

48

72

94

11. 以下哪個數既是3的倍數，又是7的倍數？

A. 12

B. 14

C. 18

D. 21

12. 在18的倍數中，最接近80的是_____。

13. 以下哪個數不是4的倍數？

A. 56

B. 60

C. 74

D. 92

14. 117是13的第幾個倍數？

答案：第_____個

15. 在50以內，7的倍數有多少個？

答案：_____個

16. 在50至200之間，30的最小和最大倍數相乘的結果是多少？

A. 10000

B. 10800

C. 12000

D. 18000

17. ☆的第2個倍數是38，☆的第5個倍數是_____。