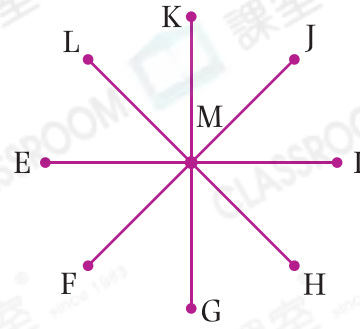






13. 如果E在I的東南方，G在K的哪一方？

- A. 南方      ○ B. 西南方  
○ C. 北方      ○ D. 東北方



14. 志銘面向東南方，左轉兩個直角後，

(a) 他面向★ 東南 / 東北 / 西南 / 西北方。

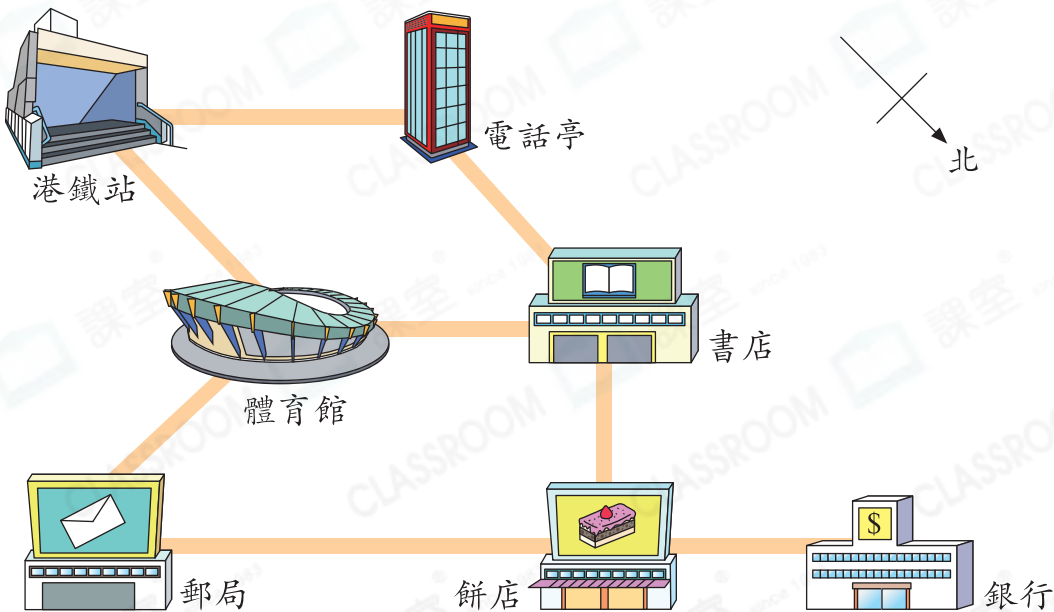
(★圈出答案)

(b) 他的左面是★ 東南 / 東北 / 西南 / 西北方。

(★圈出答案)

15. 李先生從公司先向西方走了500米，然後轉向北方走了500米，他現在在公司的\_\_\_\_\_方。

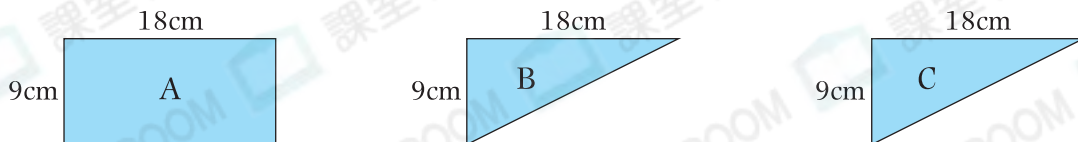
16.



(a) 樂兒由電話亭前往體育館，她先向\_\_\_\_\_方走，到達\_\_\_\_\_後，轉向\_\_\_\_\_方走便可到達。

(b) 家豪由書店向\_\_\_\_\_方走，到達餅店後，轉向\_\_\_\_\_方走便可到達銀行。

17.



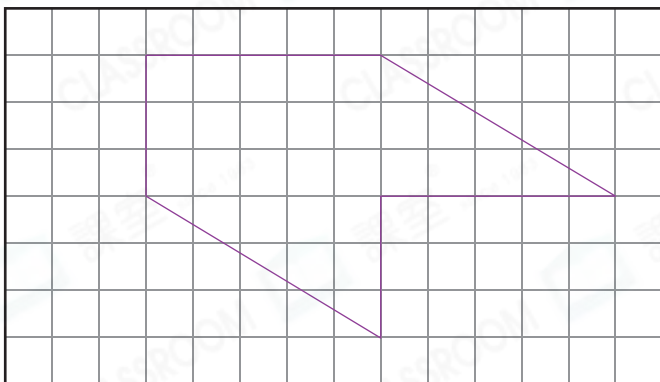
(a) 用圖形 B 和 C 可以拼砌出一個★ 長方形 / 正方形。

(★ 圈出答案)

(b) 用圖形 A、B 和 C 不可以拼砌出以下哪種四邊形？

- A. 正方形
- B. 直角梯形
- C. 平行四邊形
- D. 長方形

18. 在下圖加畫直線，把下圖的多邊形分割成四個大小和形狀相同的圖形。



19. 兆海在一個梯形上加畫一條直線，分割出兩個圖形。梯形的四邊長度都不相等且有兩個直角，他無法分割出下列哪組圖形？

- A. 三角形和正方形
- B. 三角形和平行四邊形
- C. 三角形和長方形
- D. 平行四邊形和梯形

20. 用 4 個大小相同的等邊三角形可以拼砌出哪個 / 些圖形？

答案：★ 三角形 / 平行四邊形 / 梯形

(★ 圈出所有答案)



刷一刷

- 完成所有題目
- 已檢查答案

