

複習二

● 1上至3下課題

日期：_____ /17
 成績：_____ /17
 時限： 20分鐘

範疇	評估重點	題目	得分
數	◇ 分數的認識 ◇ 乘法 ◇ 除法 ◇ 乘加混合運算	1 - 4	/6
度量	◇ 時間 ◇ 長度 ◇ 重量 ◇ 容量	5 - 8	/5
圖形與空間	◇ 立體圖形 ◇ 四邊形 ◇ 角	9 - 11	/6

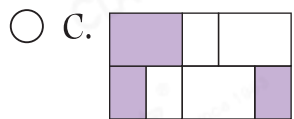

自我評估

13-17分 

9-12分 

0-8分 

1. 以下哪個圖形的着色部分佔全圖的 $\frac{2}{5}$ ？

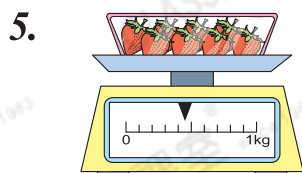


2. $294 \times 6 =$ _____

3. 參加露營的童軍共有8組，每組有12人，另有6名老師。共有多少人參加這次露營？(列式計算)

Blank area for writing the answer to question 3.


4. 妹妹有85張三角形貼紙，是哥哥有的三角形貼紙數量的5倍，哥哥有_____張三角形貼紙。



一盒草莓的重量是_____克。


評分欄



6. 量杯內原有 1500mL 水，家琪倒去一些後，餘下 。家琪倒去了 _____ 水。(答案須寫上單位)

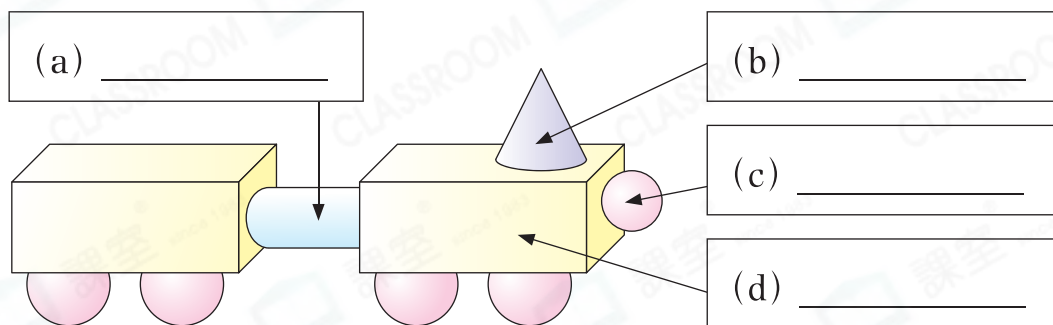
7. 明輝於 1:20 p.m. 出發去書局，車程需 50 分鐘。以「24 小時報時制」表示，明輝到達書局的時間是 _____ : _____。

8. 用尺子量度下面的書籤。



上圖的書籤長 _____ 毫米，它的長度與一張長 8 厘米的書籤相差 _____ 毫米。

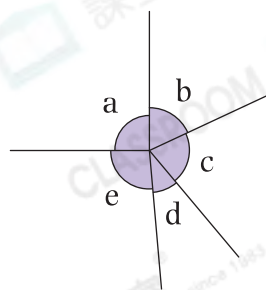
9. 下面的火車頭由立體圖形組成，在空格內寫上它們的名稱。



10. 一個四邊形的兩對對邊分別平行及長度相等，但沒有直角。這是一個 _____ 形。

11. 觀察右圖，下列哪個/些描述是正確的？寫出所有代表答案的英文字母。

- A. 角 d 最小。
- B. 角 a 比角 e 小。
- C. 角 e 是直角。
- D. 角 c 和角 d 一樣大。



答案： _____

