



日期：_____

成績：_____

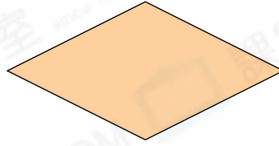


下列各圖若是菱形，在  內加上「✓」；不是的，加上「×」。

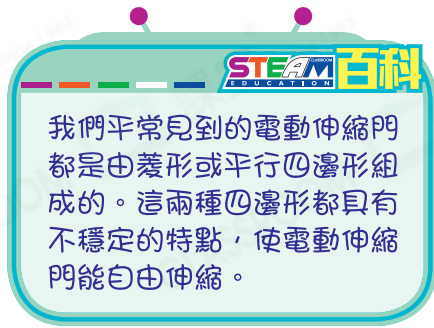

1.



2.



3.

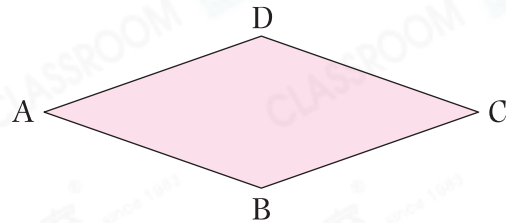


填一填，圈一圈。

4. 右圖是一個_____形。

5. _____和_____平行。

_____和_____平行。

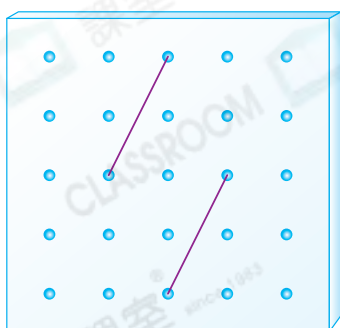


6. 四邊長度(相等 / 不相等)。

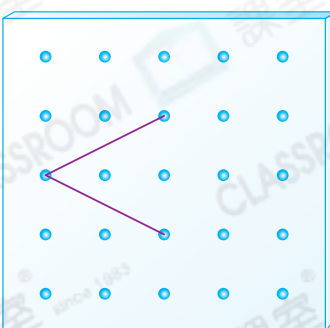


在釘板上加畫直線，與原有的直線組成一個菱形。

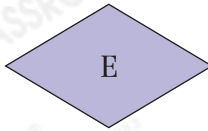
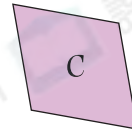


7.



8.



9.



上圖中，圖形_____和_____是菱形，它們有★一對 / 兩對 (★圈出答案) 對邊平行。

10. 關於菱形的描述，下列哪一項是錯誤的？

A. 四邊長度相等。

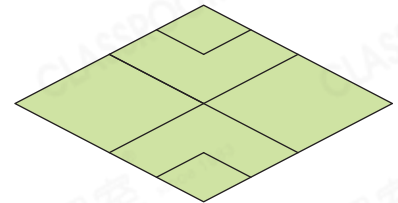
B. 鄰邊長度相等。

C. 對邊平行。

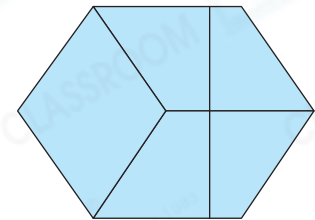
D. 四個角相等。

11. 右圖中，共可數出菱形多少個？

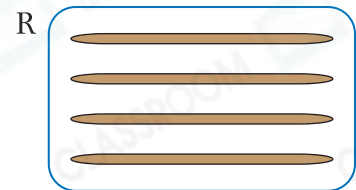
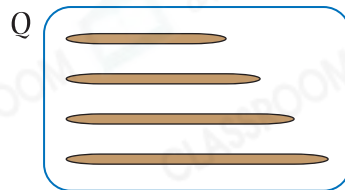
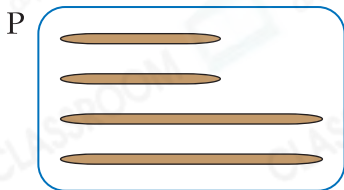
答案：_____個



12. 右圖的六邊形是由一個_____形和四個_____形拼砌而成的。



13.



敏清有以上三套竹籤。她想圍出一個菱形，應用竹籤套★ P / Q / R。
(★圈出答案)

14. 四邊形 UVYZ 是一個菱形，四邊形 VWXY 是一個長方形。若 $VW = 6\text{cm}$ ， $WX = 4\text{cm}$ ，則 $UV =$ _____ cm 。

