

9

面積的認識




日期：_____

成績：_____

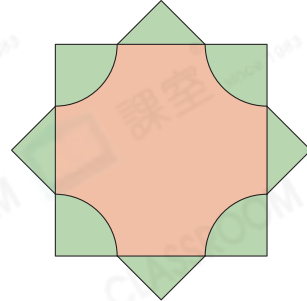
觀察以下圖形，圈出答案。

1.



(/) 的面積較小。

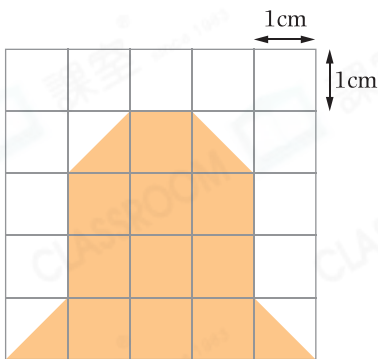
2.



(/) 的面積較大。

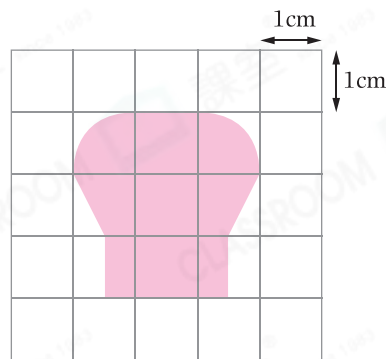
找出下列各圖形的面積。

3.



答案：_____ cm^2

4.



答案：約 _____ cm^2

在橫線上填上適當的面積單位「 m^2 」或「 cm^2 」。

5. 一扇門的面積約是 2 _____。

6. 一張學生證的面積約是 40 _____。

7. 一個足球場的面積約是 7140 _____。

8. 一張畫紙的面積約是 624 _____。

百科
俄羅斯是全世界陸地面積最大的國家，約是巴西的兩倍大。

