

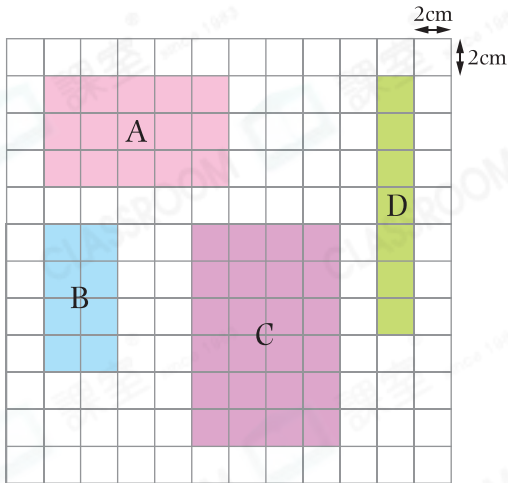


日期：_____

成績：_____



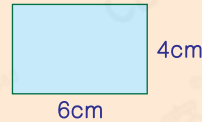
根據下列的長方形，完成表格。



加油站

長方形的面積 = 長 × 闊

例



面積是：

$$6 \times 4 = 24(\text{cm}^2)$$

	長方形	長	闊	面積
1.	A	cm	cm	cm ²
2.	B	cm	cm	cm ²
3.	C	cm	cm	cm ²
4.	D	cm	cm	cm ²



列式計算下列各題。

5. 長方形書桌桌面長80厘米，闊50厘米，它的面積是多少平方厘米？



它的面積是：_____

6. 一塊長方形木板的面積是52平方米，長是13米，闊是多少米？



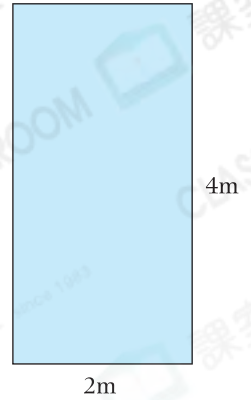
闊是：_____

7. 長方形花園長18米，闊比長短5米，它的面積是多少平方米？



它的面積是：_____

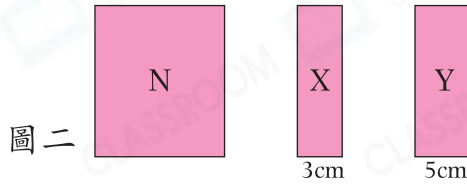
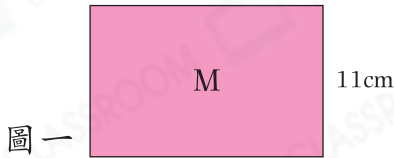
8. 右圖是一間商舖的平面圖，它的租金是每平方米850元。整間商舖的租金是多少元？（列式計算）



9. 籃球場的面積是420平方米，長是28米，籃球場的長和闊相差多少米？

- A. 17米 ○ B. 15米 ○ C. 13米 ○ D. 11米

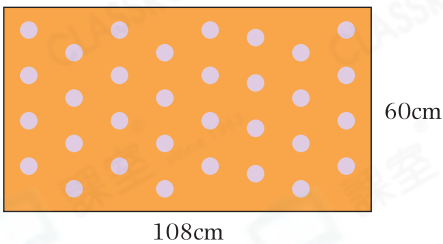
10.



(a) 圖一中，M是一個周界為56cm的長方形，它的面積是_____ cm^2 。

(b) 把M剪成三個長方形，如圖二所示。N的面積是_____ cm^2 。

11.
進階

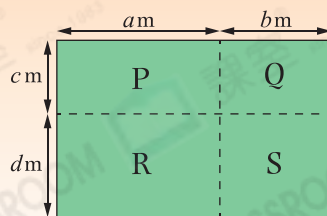


樂林從左面的卡紙中剪出一些邊長為9cm的正方形做聖誕卡，他最多可做_____張聖誕卡。

腦力挑戰站



詳盡提示



把上面的長方形分割成P、Q、R和S四個不同的長方形，長方形P、Q和S的面積分別是 32m^2 、 24m^2 和 30m^2 ，長方形R的面積是_____ m^2 。