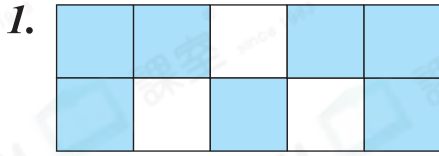




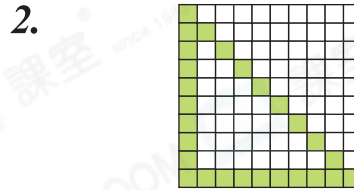
日期：_____

成績：_____

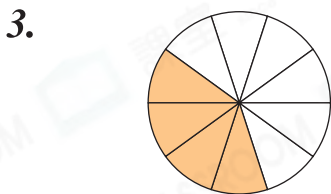
用小數表示着色部分佔全圖的多少。



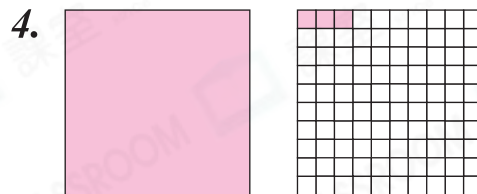
答案：_____



答案：_____



答案：_____



答案：_____

完成下表。

	分數	小數	小數讀作
5.	$\frac{67}{100}$		
6.	$2\frac{41}{1000}$		
7.		7.07	

成人的口腔、腋下和直腸的正常溫度範圍約是：

口腔：36.3℃－37.2℃

腋下：36.3℃－37.5℃

直腸：36.6℃－38.0℃

在橫線上填答案。

8. 157 厘米 = _____ 米

9. 3 米 _____ 厘米 = 3.05 米

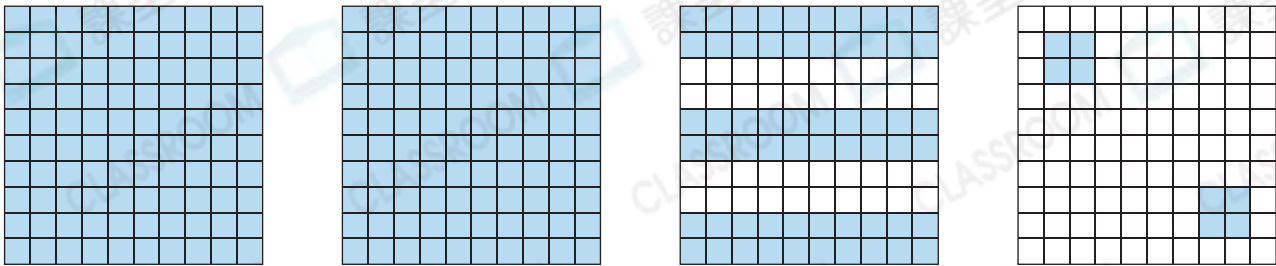
10. 2015 毫升 = _____ 升

11. _____ 克 = 0.41 公斤

12. _____ mL = 0.005L

13. 20g = _____ kg

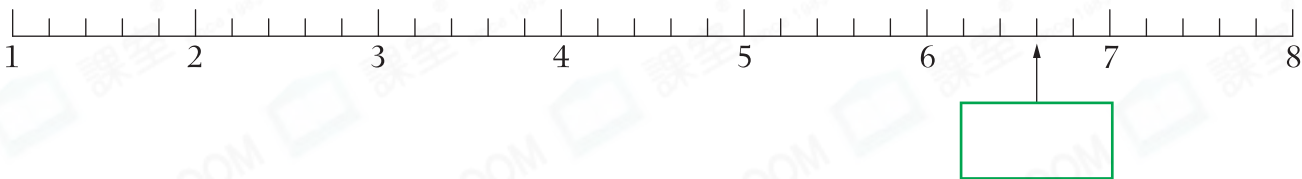
14.



上圖有四個大方格，每一個大方格代表1。用小數表示上圖的着色部分。

答案：_____

15. 在空格內用小數寫出圖中箭嘴所指的刻度。



16. 在空格內填上「>」、「<」或「=」。

(a) 4.22 4.202

(b) 0.647 $\frac{31}{50}$

(c) 1.375 $1\frac{17}{25}$

得分重點

- ⊗ 先把分數化成小數再比較。
- ⊗ 比較小數的大小時，應先比較整數部分，再比較小數部分。

17. 在 0.4037 這個數中，「_____」在萬分位，代表的數值是_____。

18. 以下哪個小數中的「0」被刪除後，小數數值不變？

- A. 30.28 ○ B. 8.07 ○ C. 5.330 ○ D. 0.046

19. 以下是君安星期一至四的溫習時間記錄。

星期一	星期二	星期三	星期四
1.2 小時	$1\frac{3}{10}$ 小時	1.05 小時	$1\frac{2}{25}$ 小時

他在星期_____的溫習時間最接近 1 小時。