



日期：\_\_\_\_\_

成績：\_\_\_\_\_

**計算下列各題。**

$$\begin{array}{r} 1. \quad 9.0 \\ + 12.8 \\ \hline \end{array}$$



$$\begin{array}{r} 2. \quad 13.42 \\ - 2.27 \\ \hline \end{array}$$



計算小數加減法時，  
要對齊小數點，並留  
意在適當的位置補零。

3.  $2.4 + 6.3 =$  \_\_\_\_\_

4.  $9.7 - 2.3 =$  \_\_\_\_\_

5.  $15.72 + 0.03 =$  \_\_\_\_\_

6.  $23.44 - 6.5 =$  \_\_\_\_\_

7.  $12.4 + 9.7 + 12.25 =$  \_\_\_\_\_

8.  $30 - 10.07 - 4.9 =$  \_\_\_\_\_

9.  $36.54 + 7.06 + 1.4 =$  \_\_\_\_\_

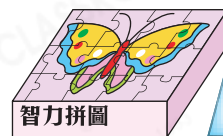
10.  $36.75 - 10.98 - 2.77 =$  \_\_\_\_\_

**列式計算下列各題。**

11. 爸爸買兩盒智力拼圖，共須付多少元？



共須付：\_\_\_\_\_



\$37.60

12. 一卷絲帶原有 18.3 米，用去 6.8 米後，還餘下多少米？



還餘下：\_\_\_\_\_

13. 一盒果汁，喝去 550 毫升後，餘下 1.45 升。這盒果汁原有多少升？



這盒果汁原有：\_\_\_\_\_

14. 妹妹比哥哥輕 10.3kg，爸爸比哥哥重 20kg，如果爸爸重 75.2kg，妹妹重多少？



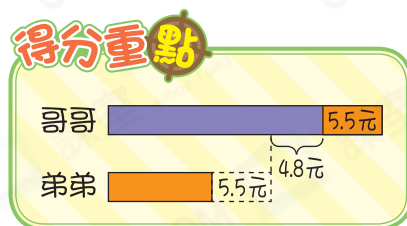
妹妹重：\_\_\_\_\_

15. 購買一枚面值為1元7角的郵票和兩枚面值為2元3角的郵票，共須付\_\_\_\_\_元。

16. 在518.815這個數中，兩個「1」的數值相差多少？

- A. 9.99      ○ B. 9.9      ○ C. 0.99      ○ D. 0.9

17. 哥哥有的款項比弟弟多4.8元。弟弟給哥哥5.5元後，現在兩人有的款項相差多少元？(列式計算)



18.



\$320.60



\$208.40



\$230.50

(a) 旭陽付500元購買兩輛玩具車，應找回\_\_\_\_\_元。

**進階** (b) 若東明有420元，他能不能購買以上其中兩件不同的玩具？試解釋。

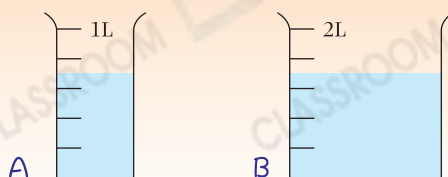
答案：因為\_\_\_\_\_

所以他★能 / 不能 (★圈出答案) 購買兩件不同的玩具。

**腦力挑戰站**



詳盡提示



敏君把量杯A的水注入量杯B至2L，量杯A還剩下\_\_\_\_\_L水。