

應用題訓練二

○ 小數運算 ○ 周界 ○ 面積

日期： _____
成績： _____

1.



\$65.50



~~\$52.50~~

特價 \$45.80

(a) 雨菲買一本《小魔女》，比原價節省了多少元？

圖解

原價	52.5元
特價	45.8元

?元

(b) 世樂買《英文字典》和《小魔女》各一本，共須付多少元？

2. 家中原有粟米油 3000 毫升，用去 1800 毫升後，再買了一瓶 2.5 升的粟米油，現有粟米油多少升？

提示

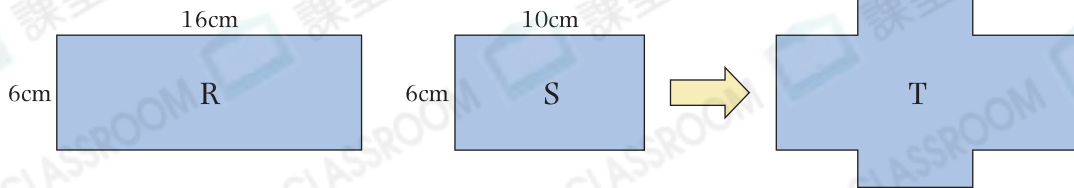
先統一以「升」為單位，再計算。

3. 上月心怡和智惠的體重相差 1.8kg。心怡減肥後，與智惠的體重仍然相差 1.8kg。若心怡上月重 40kg，她現在的體重是多少？

圖解

心怡	40kg	1.8kg
智惠	?	1.8kg

4.



長方形 R 和長方形 S 重疊成圖形 T，圖形 T 的面積是多少？


提示

T 的面積
= R 的面積 + S 的面積
- 重疊部分的面積

5. 右圖是一張長方形花紙，它的周界是 118cm。

(a) 花紙的長是 _____ cm。

(b) 從花紙中剪去一個最大的正方形後，剩餘花紙的面積是多少？



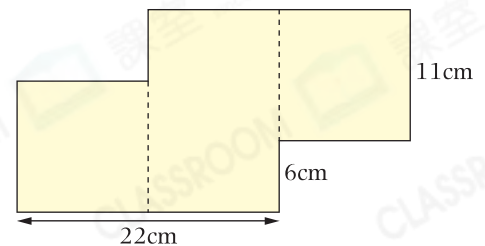
提示

留意最大的正方形的邊長與長方形的長或闊的關係。

6. 右圖是由兩個大小相同的正方形和一個長方形組成。

(a) 整個圖形的周界是 _____ cm。

(b) 整個圖形的面積是多少？



提示

先找出長方形的長和闊分別是多少。