

# 第一次小測 (4下數學科)

姓名：

日期：

班別：  ( )

成績：  /22

時限： 15分鐘

(範圍：練習 1 - 5)

## 一、計算下列各題。(6分)

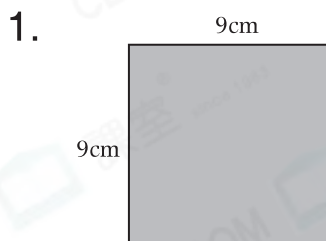
1.  $68 \times 24 + 68 \times 176 =$  \_\_\_\_\_ 2.  $318 - 216 \div 12 =$  \_\_\_\_\_

3.  $(34 + 41) \div (17 + 8) =$  \_\_\_\_\_ 4.  $18 \times 12 \div 6 =$  \_\_\_\_\_


5.  $(210 - 35) \times (32 + 18) - 100 =$  \_\_\_\_\_

6.  $(2 \times 51 + 10) \div 14 + 127 =$  \_\_\_\_\_

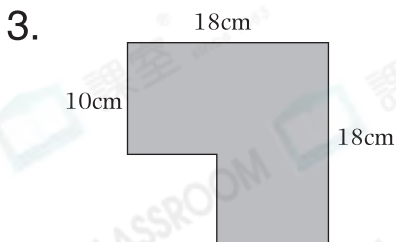
## 二、計算下列各圖形的周界。(4分)



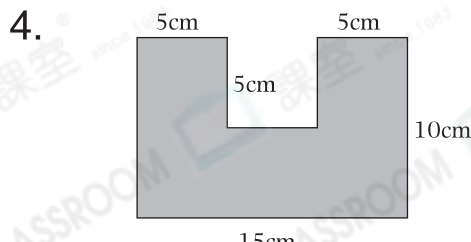
\_\_\_\_\_ cm



\_\_\_\_\_ cm



\_\_\_\_\_ cm



\_\_\_\_\_ cm

### 三、列式計算下列各題。(12分)

1. 麪包店焗製了336塊曲奇餅，賣出120塊後，店員將餘下的曲奇餅平均包裝成8盒，每盒曲奇餅有多少塊？

Blank area for solving question 1.

2. 一本相簿有24頁，俊東要放入225張相片，他最少要相簿多少本才足夠放入這些相片？

Blank area for solving question 2.



每頁可放  
4張相片

3. 叔叔在停車場泊車5小時，他共須付款多少？

Blank area for solving question 3.

停車場收費	
首小時	\$18
以後每小時 (不足1小時亦以 1小時收費計算)	\$24

4. 右圖由6個周界各是20cm的正方形組成，它的周界是多少？

Blank area for solving question 4.

