

第三次小測 (4下數學科)

姓名：

日期：

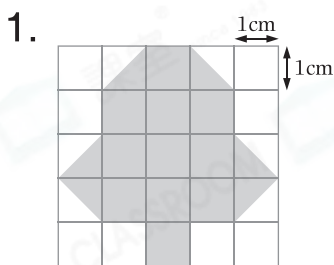
班別： ()

成績： /20

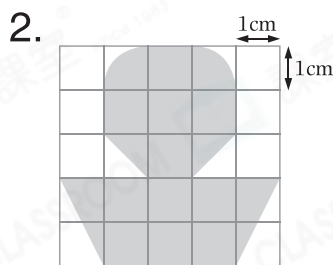
時限： 15分鐘

(範圍：練習 9 - 12)

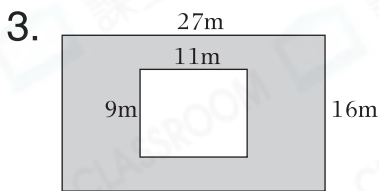
一、計算下列各圖中陰影部分的面積。(4分)



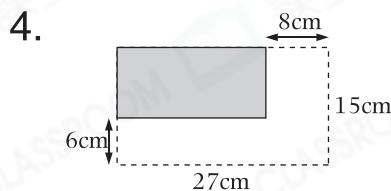
_____ cm^2



約 _____ cm^2



_____ m^2




_____ cm^2

二、用小數表示陰影部分佔全圖的多少。(4分)



寫作： _____

讀作： _____



寫作： _____

讀作： _____

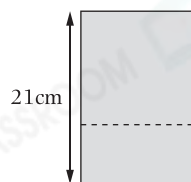
三、回答下列各題。(6分)

1. 在 348.295 這個數中，「2」的數值是多少？
2. 在 45.382 這個數中，千分位數字是什麼？
3. 用阿拉伯數字寫出「一點零四」這個數。
4. 以下哪個小數的值最小？
23.45 0.094 2.71 0.43
5. 0.03 公里等於多少米？
6. 157 克等於多少公斤？

1. _____
2. _____
3. _____
4. _____
5. _____ 米
6. _____ 公斤

四、列式計算下列各題。(6分)

1. 右圖長方形的面積是 315cm^2 ，把它沿虛線剪開，剪出一個正方形和一個小長方形，正方形的面積是多少？



2. 右邊圖形的面積是多少？

