



日期：\_\_\_\_\_

成績：\_\_\_\_\_



## 算一算。

$$1. \quad 96 \div 12 \times 4$$

$$= \underline{\quad\quad\quad} \times \underline{\quad\quad\quad}$$

$$= \underline{\quad\quad\quad}$$

$$2. \quad 50 \times (180 \div 9 + 4 \times 7)$$

$$= \underline{\quad\quad\quad} \times (\underline{\quad\quad\quad} + \underline{\quad\quad\quad})$$

$$= \underline{\quad\quad\quad} \times \underline{\quad\quad\quad}$$

$$= \underline{\quad\quad\quad}$$

$$3. \quad 84 \div (3 \times 7) = \underline{\quad\quad\quad}$$

$$4. \quad (23 \times 12) \div (100 \div 25) = \underline{\quad\quad\quad}$$

$$5. \quad 810 \div 9 - 36 \div 6 \times 7 = \underline{\quad\quad\quad}$$

$$6. \quad 84 \div 12 + 46 \times 19 - 104 = \underline{\quad\quad\quad}$$



## 列式計算下列各題。

7. 老師把四年級學生排成6行，每行有22名學生。如果將這些學生排成11行，每行有學生多少名？





每行有學生：\_\_\_\_\_

8. 一盒擦膠有6塊，老師付了72元，即買了擦膠多少盒？



買了擦膠：\_\_\_\_\_



9. 某小學租用了4輛旅遊巴士，每輛有56個乘客座位。9個班級的學生入座後，餘下8個空位。平均每班有學生多少名？



平均每班有學生：\_\_\_\_\_

10. 把216枝花平均包裝成12束，售出3束，即售出\_\_\_\_\_枝花。
11. 有一條長5米的棉線，燕鳳用它製作了18條長度相同的手繩後，剩下了32厘米。製作一條手繩需要棉線多少厘米？(列式計算)

12. 水果店有20箱各重18kg的橙和5箱各重9kg的車厘子，橙的總重量是車厘子的\_\_\_\_\_倍。

13.

### 驚喜樂園

每個代幣正價為5元，會員可享有以下優惠：

優惠一	以40元購買10個代幣
優惠二	以60元購買20個代幣

每局遊戲需要8個代幣。


- (a) 家倫花了145元以正價購買代幣，他最多可玩\_\_\_\_\_局遊戲，餘下\_\_\_\_\_個代幣。

-  (b) 樂文是驚喜樂園的會員，他能否以180元玩8局遊戲？試解釋。

進階

答案：因為\_\_\_\_\_，

所以他★能 / 不能 (★圈出答案)以180元玩8局遊戲。

-  14. 李太太存放了一件行李9小時，根據右圖，她共須付款多少元？

答案：\_\_\_\_\_元

行李存放收費	
首3小時	35元
其後每小時 (不足1小時亦以1小時計算)	18元