

3

周界的認識



日期：_____

成績：_____



畫出下列各圖形的周界。

1.



2.



3.



加油站

周界是平面圖形外圍界線的長度。

例




紫色線是這個圖形的周界。




先估計下列各圖形的周界，再用尺子或繩子量度。

4.



5.



估計約：_____ cm

量度約：_____ cm


估計約：_____ cm

量度約：_____ cm

6.



7.



估計約：_____ cm

量度約：_____ cm

估計約：_____ cm

量度約：_____ cm

