

複習一

● 1上至4下課題



日期：_____



成績：_____ /17



時限： 20分鐘

範疇	評估重點	題目	得分
數	◇ 四則混合運算 ◇ 分數的認識	1-6	/10
度量	◇ 重量 ◇ 面積	7-8	/2
圖形與空間	◇ 立體圖形 ◇ 平行線和垂直線	9-11	/5



自我評估

13-17分

9-12分

0-8分

1. $132 + 485 \div 5 =$ _____

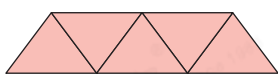
2. (a) 把 $5\frac{1}{8}$ 化為假分數。

答案：

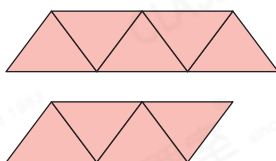
(b) 把 $\frac{29}{6}$ 化為帶分數。

答案：

3.



代表 1。



代表

。

4. 在「257.038」這個數中，

(a) 數字「2」是在_____位，而

(b) 數字「3」是在_____位。

5. 慧珊原有80元，買了四盒各售7元的豆奶後，還剩多少元？(列式計算)

ANSWER AREA

評分欄



1分



1分



1分



1分



1分



1分



1分



1分











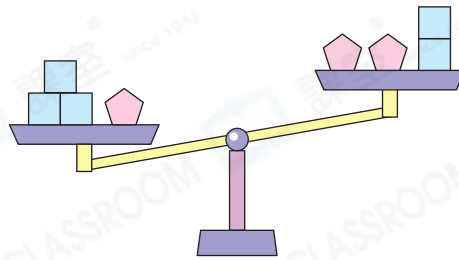
1分

6. 以下哪些數是4和14的公倍數？(圈出所有答案)

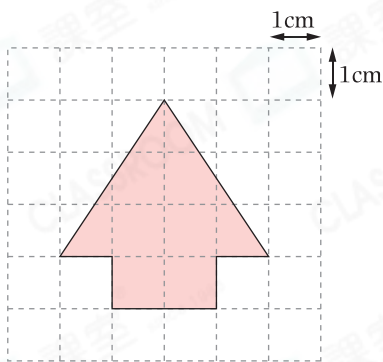
- 1 2 28 32 56

7. 細閱右圖，下列哪一項描述是正確的？

- A.  和  的重量相等。
 ○ B.  比  輕。
 ○ C.  比  重。
 ○ D. 無法比較  和  的重量。



8.

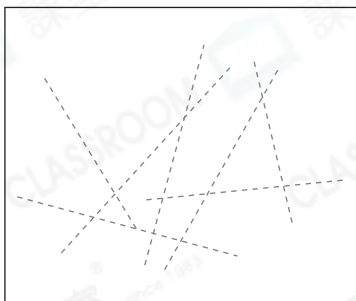


左圖中，每個小方格的邊長是1cm，着色部分的面積是_____。
 (答案須寫上單位)

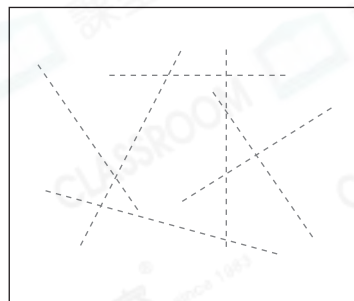
9. 右圖的立體圖形是由一個_____和兩個_____所組成。



10. (a) 在圖一，沿着虛線畫出一組垂直線。



圖一



圖二

(b) 在圖二，沿着虛線畫出一組平行線。

11. 以下哪種四邊形只有一對對邊平行？

- A. 正方形 ○ B. 梯形
 ○ C. 長方形 ○ D. 菱形

