



日期：\_\_\_\_\_

成績：\_\_\_\_\_

## 生活中的數學



我把支票上阿拉伯數字表示的金額塗改了，你知道它的正確金額是多少嗎？

銀行支票	
民眾銀行 PUBLIC BANK	16 01 20XX 日 Day 月 Month 年 Year
祈付 PAY 李雅文小姐	
港幣 HK DOLLARS 壹萬捌仟伍佰叁拾元正	\$18,530
MS.CHAN TSE NGA	CHAN
XXXXXXXXXXXXXXXXXXXX	

根據支票上大寫的中國數字，正確金額應是\$18530。  
用大寫的中國數字表示金額，可防止別人塗改。



## 中國數字和羅馬數字

以中國數字表示阿拉伯數字

表示的數	0	1	2	3	4	5	6	7	8	9
大寫	零	壹	貳	叁	肆	伍	陸	柒	捌	玖
數碼	○	一	二	三	×	𠄎	上	𠄎	三	久
		丨								

以羅馬數字表示阿拉伯數字

表示的數	1	5	10	50	100	500	1000
羅馬數字	I	V	X	L	C	D	M

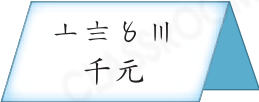
羅馬數字的記數法則：

- 「左減右加」 例：XLV 表示  $50 - 10 + 5 = 45$
- 「累五進一」 例：I → II → III → IV → V → …

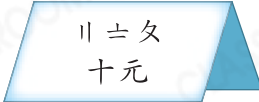
 **完成下表。**

	阿拉伯數字	中國數字(大寫)
1.	8050	_____
2.	_____	壹萬零柒佰捌拾伍
3.	256 045	_____
4.	_____	叁拾壹萬零玖


 **用阿拉伯數字寫出以下各標價牌上的售價。**

5.  上 三 八 三  
千 元

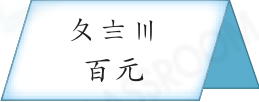
\_\_\_\_\_ 元

6.  二 十 八  
十 元

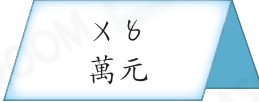
\_\_\_\_\_ 元

7.  X O I  
百 元

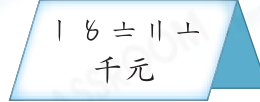
\_\_\_\_\_ 元

8.  八 三 三  
百 元

\_\_\_\_\_ 元

9.  X 八  
萬 元

\_\_\_\_\_ 元

10.  一 八 三 二 十  
千 元

\_\_\_\_\_ 元

 **用阿拉伯數字寫出下列各數。**

11.  DL


\_\_\_\_\_

12.  CCCXV

\_\_\_\_\_

13.  MCDL

\_\_\_\_\_

14.  MCMVII

\_\_\_\_\_