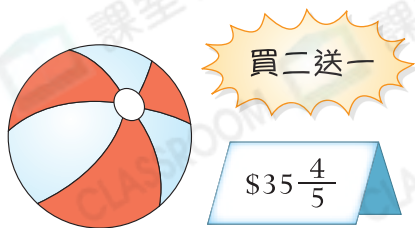


7.



梁先生購買三個皮球，他共須付款多少？(列式計算)



1分



1分



1分

8. 倩雅有 56 個硬幣，其中 10 元硬幣佔全部的 $\frac{3}{7}$ ，5 元硬幣佔全部的 $\frac{1}{4}$ ，其餘的都是 2 元硬幣。10 元硬幣的總值是_____元。



1分

9. 每公斤車厘子售 108 元，每公斤榴槤的價錢是車厘子的 $\frac{3}{4}$ ，陳小姐購買了一個重 $2\frac{1}{2}$ 公斤的榴槤，共須付多少元？(列式計算)



1分



1分



1分

10. 廚房的水龍頭壞了，每分鐘有 $\frac{1}{10}$ L 的水從水龍頭漏出。由 6:54 p.m. 至 7:22 p.m.，水龍頭共漏出水多少？

A. $2\frac{1}{5}$ L

B. $2\frac{4}{5}$ L

C. 3L

D. $5\frac{2}{5}$ L



1分

11. 玉嬋上網課共用了 $1\frac{1}{4}$ 小時，其中上中文科網課的時間佔 $\frac{2}{5}$ 。玉嬋上中文科網課用了多少分鐘？

答案：_____分鐘



1分

12. 國豪有 35 粒波子，子傑有 y ($y > 35$) 粒波子。

(a) 兩人共有 _____ 粒波子。

(b) 兩人有的波子數量相差 _____ 粒。

13. 一個水壺的容量是 h 升，是一個水杯的 5 倍，一個水杯的容量是 _____ 升。

14. 姊姊六月在快餐店做兼職店員，她每天工作 t 小時。在六月，她在快餐店工作了 _____ 小時。

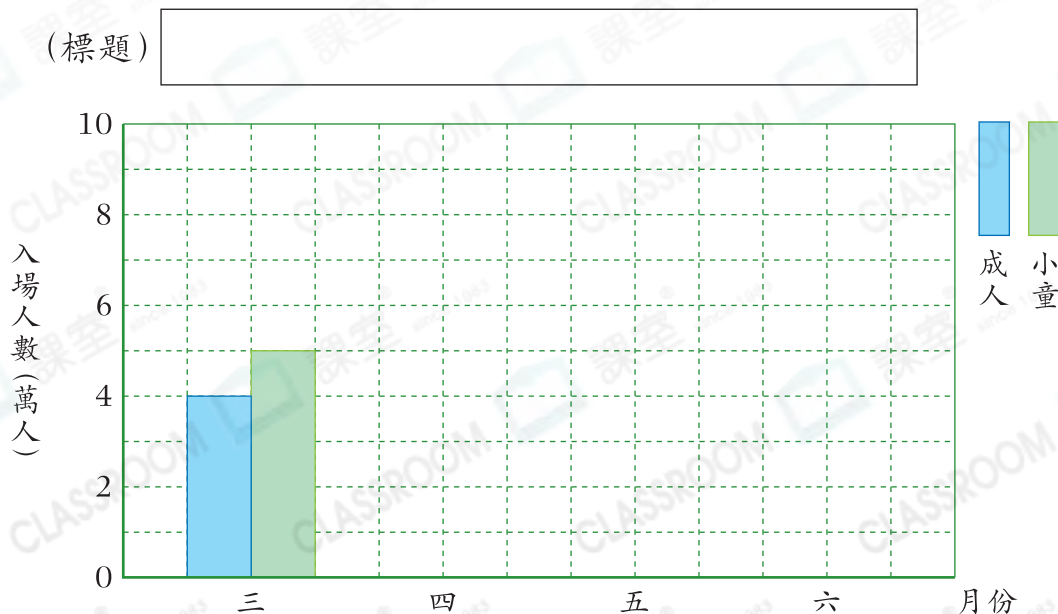
15. 下表顯示歡樂農莊三月至六月的入場人數。

入場人數 \ 月份	三	四	五	六
成人(人)	37966	60549	70831	89783
取近似值至萬位				
小童(人)	48025	40896	69258	91674
取近似值至萬位				

(a) 把成人和小童的入場人數取近似值至萬位，並完成上表。

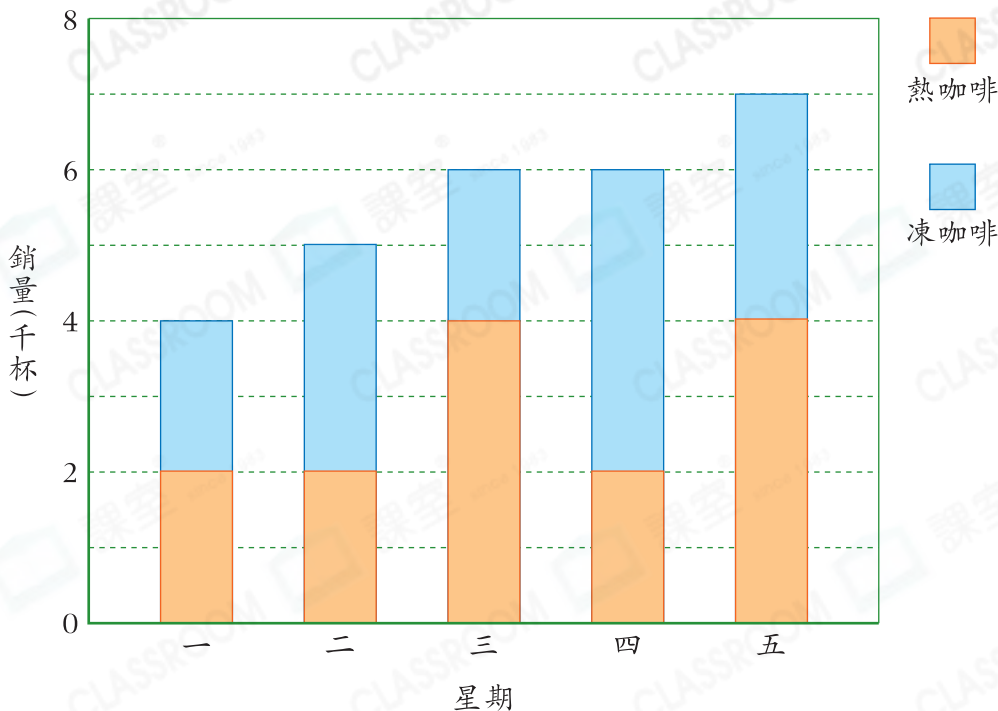
(b) 根據湊整後的數據，完成以下的複合棒形圖，並加上標題。

(標題)



16. 下圖顯示雲端茶餐廳星期一至五咖啡的銷量。

雲端茶餐廳星期一至五咖啡的銷量



- (a) 星期_____咖啡的總銷量最高，有_____杯。
- (b) 星期三熱咖啡的銷量比星期四的★多 / 少 (★圈出答案)
_____杯。
- (c) 星期一至五咖啡的總銷量共有_____萬杯。
- (d) 星期四熱咖啡的銷量是凍咖啡的幾分之幾？(以最簡分數作答)

答案：

- (e) 熱咖啡每杯售 \$20，凍咖啡每杯售 \$22。星期二咖啡的總銷售額能否超過 \$100 000？為什麼？

答案：因為_____

_____，
_____，
所以星期二咖啡的總銷售額★能 / 不能 (★圈出答案) 超過 \$100 000。

刷一刷

完成所有題目

已檢查答案

1分

1分

1分

1分

1分

1分