

7

正方體、長方體和圓柱




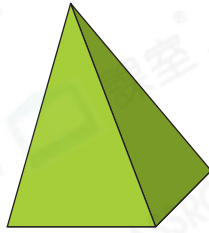
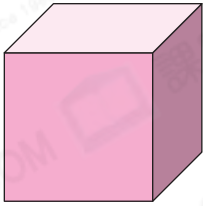
日期：_____

成績：_____

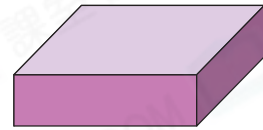
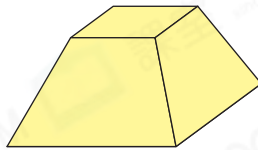



依指示，圈出所有答案。

1. 正方體

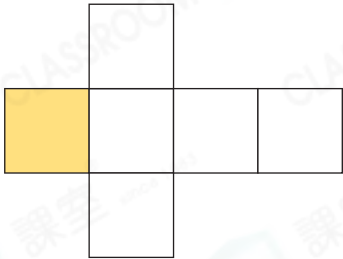


2. 長方體




寫出下列各摺紙圖樣可摺出的立體的名稱，並在黃色面對應的底上加上「✓」。

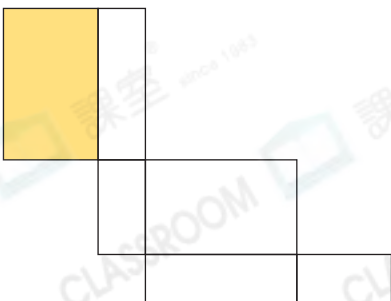
3.



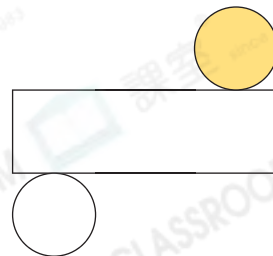
4.




5.



6.



7. 家樂用下面的卡紙製作出一個立體圖形。

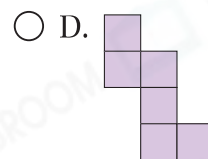
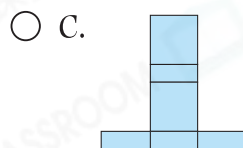
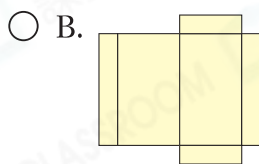
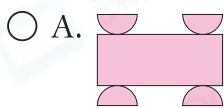


(a) 他製作了一個_____。

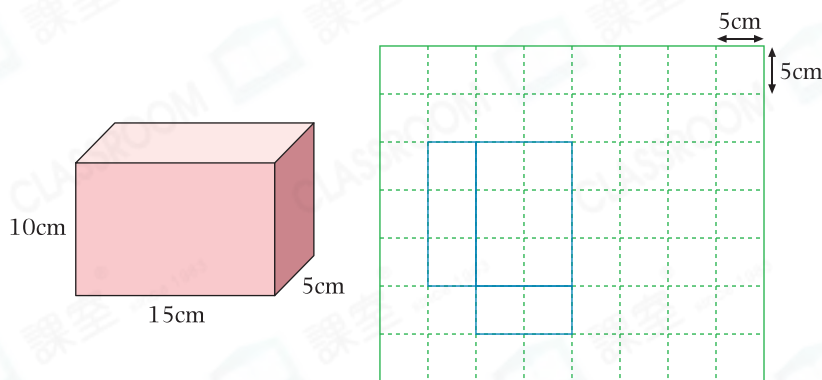
(b) 這個立體圖形有_____條稜和_____個頂點。

8. 每個長方體最多有_____個正方形的面。

9. 以下哪個摺紙圖樣不可以摺出一個立體？



10. (a) 妹妹製作了左面的紙盒。在右面的方格紙上，完成紙盒的摺紙圖樣。



得分重點

長方體紙盒相對的面大小和形狀相同。

(b) 這個摺紙圖樣的面積是_____ cm^2 。

腦力挑戰站



詳盡提示

以下哪些正方體是由右面的摺紙圖樣摺出的？
(圈出所有答案)

