

複習一

● 1上至5上課題



日期：_____



成績：_____ /16



時限： 20分鐘

範疇	評估重點	題目	得分
數	◇ 整數四則混合運算 ◇ 因數 ◇ 分數的認識 ◇ 小數的認識 ◇ 分數加法	1 - 6	/9
度量	◇ 時間 ◇ 面積	7 - 9	/3
圖形與空間	◇ 八個方向 ◇ 平面圖形	10 - 12	/4



自我評估

13-16分

9-12分

0-8分

1. $5\frac{1}{3} + \frac{1}{4} =$

2. $725 \div 25 + 11 =$ _____

3. 以下哪個數中的「5」是在十分位？

A. 4315.8

B. 431.58

C. 43.158

D. 4.3158

4. 列出24的所有因數。

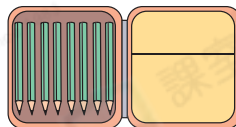
答案：_____

5. 在空格內填上適當的數字。

(a) $\frac{3}{8} = \frac{\text{ }{72}$

(b) $\frac{117}{36} = \frac{13}{\text{ }}$

6. 文具店有18盒右面的鉛筆，售出7盒後，文具店還有鉛筆多少枝？(列式計算)



評分欄



1分



1分



1分



1分



1分



1分



1分



1分



1分

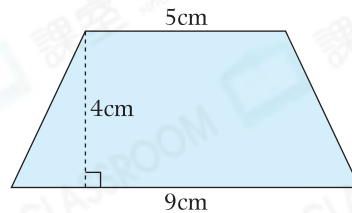
7. 文恩和弟弟去看電影，他們約定5時半在戲院門口會合。文恩到達的時間如右圖所示，她比約定時間★早 / 遲了_____分鐘。



(★圈出答案)

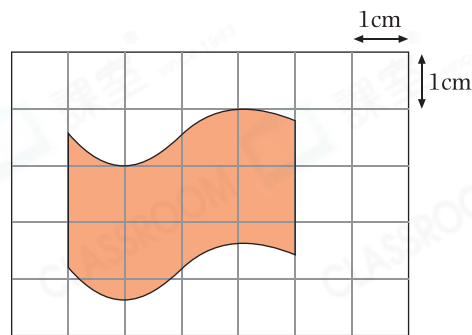
8. 右面梯形的面積是

_____ cm^2 。




9. 右圖中，每個小方格的邊長是

1cm。着色部分的面積約是 _____ cm^2 。(以整數作答)




10. 箭嘴P指向北方，以下哪個箭嘴指向東北方？



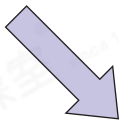
A.



B.




C.



D.



11. 在右圖中加上兩條直線，與原來的直線組成一個等腰三角形。



12. 一個四邊形的四條邊長度相等，它可能是一個 _____ 形或 _____ 形。

1分

1分

1分

1分

1分

1分

1分