

# 應用題訓練一

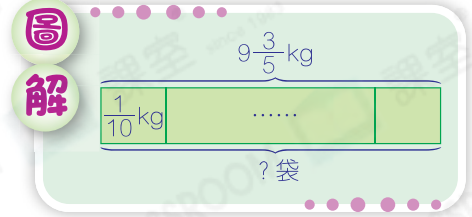


日期：\_\_\_\_\_

成績：\_\_\_\_\_

○ 分數除法 ○ 分數四則混合運算

1. 零食店店主把  $9\frac{3}{5}$  kg 魷魚乾每  $\frac{1}{10}$  kg 包裝成一袋，共可包裝成多少袋？



- 2.

材料	綠茶	牛奶	蜂蜜
佔全部的分量	$\frac{1}{2}$	$\frac{2}{5}$	$\frac{1}{10}$

上表顯示調製4升奶茶用的材料分量，奶茶中的牛奶比蜂蜜多多少升？



**提示**

先選出有用數據再計算。

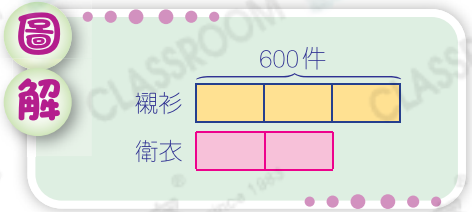
3. 每個髮圈售  $\$4\frac{4}{5}$ ，姊姊有  $\$50$ ，她最多可購買髮圈多少個？



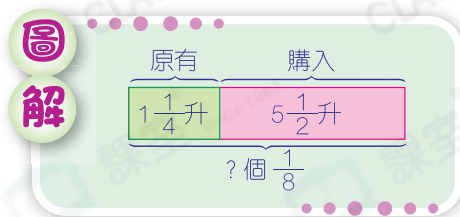
**提示**

留意答案中分數部分的處理方法。

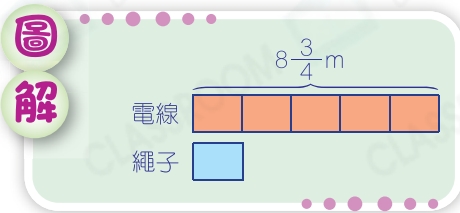
4. 成衣店有600件襯衫，衛衣的數量比襯衫的少  $\frac{1}{3}$ ，成衣店有衛衣多少件？



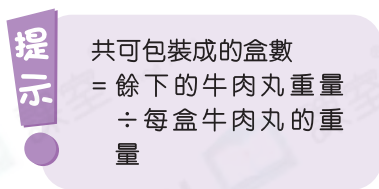
5. 餐廳原有  $1\frac{1}{4}$  升醋，店主再購入  $5\frac{1}{2}$  升醋，並把所有醋倒入容量各是  $\frac{1}{8}$  升的瓶內，共可注滿多少瓶？



6. 一條電線長  $8\frac{3}{4}$  m，是一條繩子的長度的 5 倍，把繩子剪成長度相同的 7 段，每段繩子長多少？



7. 凍肉店有 10kg 牛肉丸，售出  $2\frac{1}{2}$  kg 後，再把餘下的牛肉丸每  $\frac{5}{8}$  kg 包裝成一盒，共可包裝成多少盒？



8. 每杯芒果抹茶沙冰的售價是  $\$14\frac{1}{2}$ ，現以特價出售，購買三杯只須付  $\$35$ 。詩琦 購買三杯芒果抹茶沙冰，共可節省多少？

