

應用題訓練二

○ 小數乘法 ○ 體積 ○ 方程

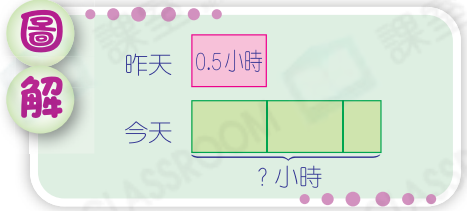


日期：_____

成績：_____

1. 霍太太昨天健身 0.5 小時，今天健身的時間是昨天的 2.5 倍，她今天健身的時間是多少小時？

Blank area for solving question 1.



2. 快餐店在十月平均每天用去 0.32L 醬油，即共用去醬油多少？

Blank area for solving question 2.

提示

留意十月的天數。

3. 貨倉和碼頭相距 9.6 公里，一輛貨車在貨倉和碼頭之間來回 4 次，共行駛了多少公里？

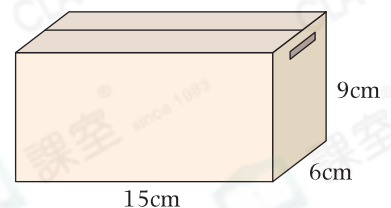
Blank area for solving question 3.

提示

先找出貨車共行駛了多少個「9.6 公里」。

4. (a) 右面紙盒的體積是多少？

Blank area for solving question 4(a).



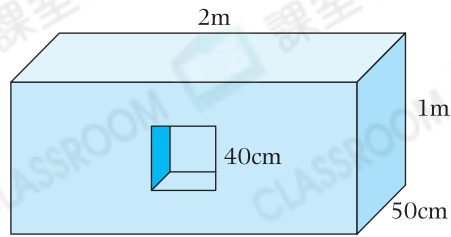
- (b) 這個紙盒最多可放入邊長是 3cm 的正方體多少個？

答案：_____ 個

提示

分別從長、闊和高考慮可放正方體的數量。

5.



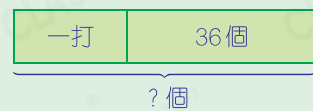
工人從長方體木塊中挖出一個正方體製作成上圖的擺設，擺設的體積是多少？

小心

留意題目中的長度單位未統一。

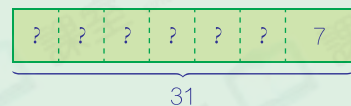
6. 一箱奇異果賣出一打後，剩下36個。這箱奇異果原有多少個？(列方程計算)

圖解



7. 某數乘以6再加上7，結果是31。這個數是多少？(列方程計算)

圖解



8. 李老師把一盒牛奶糖平均分給曉彤和靜萱，曉彤吃了5顆後，餘下13顆牛奶糖。這盒牛奶糖原有多少顆？(列方程計算)

圖解

