



日期：_____

成績：_____



計算下列各題。

1. $\frac{3}{4} \div 3 \div \frac{2}{3} =$

2. $1\frac{1}{4} \div \frac{5}{6} \div \frac{3}{4} =$

3. $10 \div \frac{2}{5} \div 1\frac{2}{3} =$

4. $5\frac{1}{7} \div \frac{9}{10} \div 8 =$

5. $14 \div 8 \div \frac{7}{10} =$

6. $\frac{1}{24} \div \frac{5}{12} \div 4 =$



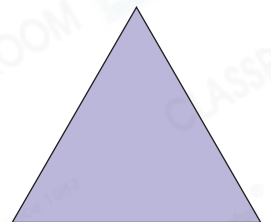
列式計算下列各題。

7. 把一條長 $10\frac{4}{5}$ 米的木條平均鋸成 6 段，每段長多少米？

每段長：_____

8. 右面等邊三角形的周界是 $12\frac{3}{10}$ 厘米，每條邊的長度是多少厘米？

每條邊的長度是：_____

9. 家中有 $7\frac{1}{2}$ 升礦泉水，如果每天喝去 $\frac{5}{8}$ 升，喝完這些礦泉水需要多少天？

喝完這些礦泉水需要：_____

10. 張太太付 $13\frac{3}{5}$ 元買了一個菠蘿，菠蘿重多少公斤？

菠蘿重：_____

每公斤 $\$8\frac{1}{2}$ 11. 冬瓜重 $5\frac{1}{4}$ kg，南瓜重 $3\frac{3}{8}$ kg，冬瓜的重量是南瓜的多少倍？

冬瓜的重量是南瓜的：_____


12. 每包牛肉乾售 \$40，每包堅果售 \$24，堅果的售價是牛肉乾的幾分之幾？

答案：

13. 減去盒子的重量後，一盒巧克力重 $187\frac{1}{5}$ 克。
平均每顆巧克力重多少克？

答案：

克



14. (a) 糖果店共有 $10\frac{4}{5}$ 公斤糖果。共有小包糖果多少包？
(列式計算)

我將一半的糖果包裝成小包出售，每包重 $\frac{1}{5}$ 公斤。



店主

(b) 每包小包糖果售 $5\frac{1}{2}$ 元，每公斤糖果售 元。

15. 一次體能測試中，不合格的學生有 4 人，合格的有 22 人。

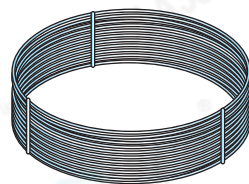
(a) 合格的學生是不合格的學生的 倍。

(b) 不合格的學生佔全部學生的 。

16. 工人用這卷鐵線剛好圍出兩個大小相同的菱形，每個菱形的邊長是多少？

答案：

m



$8\frac{4}{5}$ m

17. 珠寶店內重複播放着一則長 $2\frac{7}{10}$ 分鐘的廣告，在 12:50 至 13:20 最多可完整地播放該則廣告 _____ 次。