

9

百分數的認識



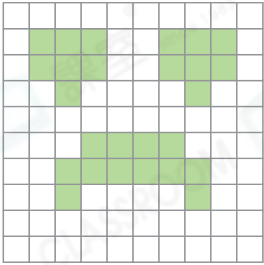
日期：_____

成績：_____



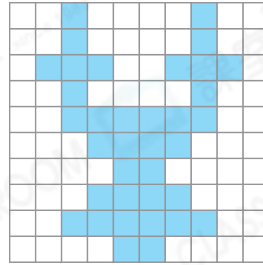
寫出下列各圖形的着色部分佔全圖的百分之幾。

1.




_____ %

2.



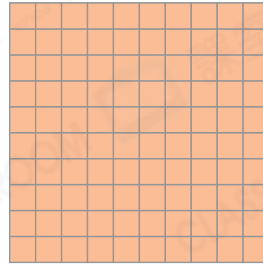
_____ %

3.



_____ %

4.



_____ %



寫出下列各百分數的讀法。

5. 33% _____

6. 100% _____

7. 9% _____

8. 240% _____

9. 0.01% _____

10. 21.3% _____



把下列各數化成百分數，並填在  內。

11. $\frac{10}{100}$



12. $\frac{85}{100}$



13. 六成



14. 四成半



15. $\frac{35}{1000}$



16. $\frac{128}{100}$



17. 右圖是珍妮的測驗成績表。得分要達到總分的60%或以上，該科測驗才算及格。珍妮在哪一/幾科測驗及格？

- A. 只有英文科
- B. 只有數學科
- C. 只有英文科和數學科
- D. 中文科、英文科和數學科


學科	得分	總分
中文科	58分	100分
英文科	82分	100分
數學科	76分	100分

18. 空氣的成分按體積計算，其中氮氣約佔78%，氧氣約佔21%，剩下的則是稀有氣體等其他成分，即稀有氣體等其他成分約佔空氣的_____ %。





STEAM 百科

空氣中的稀有氣體是指氦氣、氖氣、氬氣、氪氣、氙氣和氡氣。

19. 用鉛筆把右圖塗黑，使塗黑部分佔整個圖形的31%。



20. 美琪收集了100枚郵票。

郵票				
數量(枚)	30	40	20	?

(a)  佔全部郵票的_____ %。

(b) 哪兩種郵票的總數量剛好佔全部的60%？(圈出答案)



(c)  比  多 / 少 (★圈出答案) _____ 枚。