



日期：_____

成績：_____



選擇最適合的統計圖表達數據，寫出代表答案的英文字母。

P. 象形圖

Q. 棒形圖

R. 折線圖

S. 圓形圖

答案

- 以統計圖顯示某地過去一年內每月份的降雨量，並分析趨勢。

- 學生在統計圖中以圖像數量顯示筆盒中各種筆的數量。

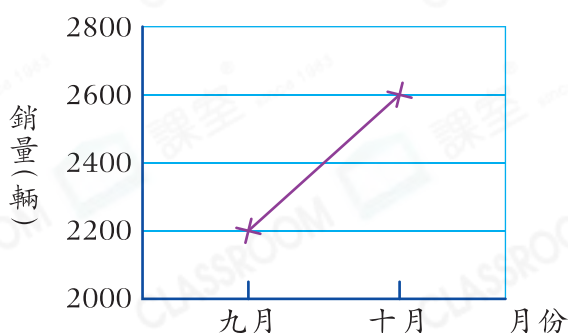
- 以統計圖顯示某屋苑小童、成人和長者的人數分布。

- 以統計圖顯示昨天麵包店各種麵包的銷量，並比較各種麵包的銷量。

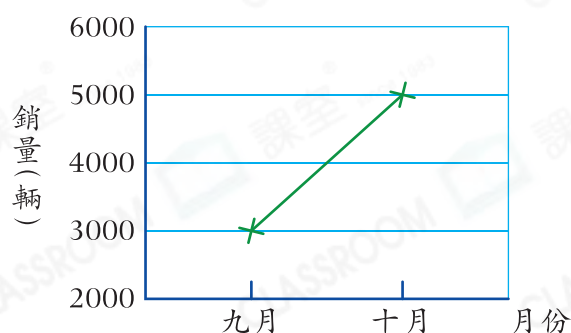


根據折線圖，回答下列問題。

甲店的單車銷量



乙店的單車銷量



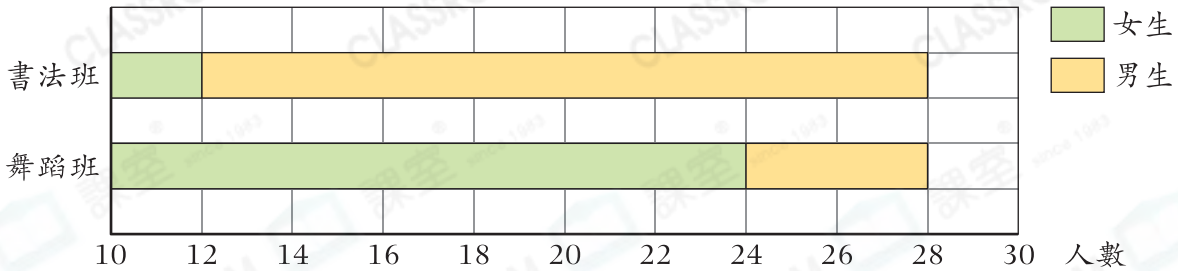
- 詠嫻說：「在九月至十月，甲店和乙店的單車銷量變化十分接近。」你同意嗎？為什麼？

答案：因為_____

所以我★ 同意 / 不同意 (★ 圈出答案) 她的說法。

6. 下面的複合棒形圖顯示兩個興趣班的學生人數。

兩個興趣班的學生人數



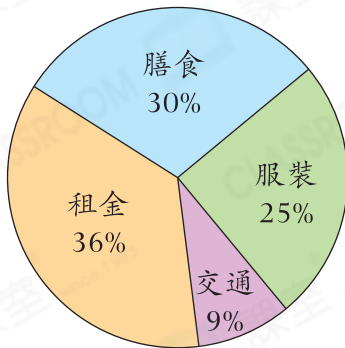
曉霞說：「舞蹈班的女生人數是書法班的7倍。」你同意嗎？為什麼？

答案：因為

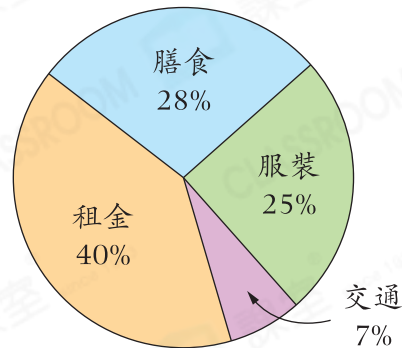
所以我 同意 / 不同意 (圈出答案) 她的說法。

7. 以下兩個圓形圖分別顯示陳先生和李先生的各項支出佔總開支的百分數。

陳先生的支出分布



李先生的支出分布



(a) 國峰說：「陳先生和李先生的租金支出都比其他項目的支出多。」你同意嗎？為什麼？

答案：因為

所以我 同意 / 不同意 (圈出答案) 他的說法。

(b) 少娟說：「陳先生的服裝支出和李先生的相同。」你同意嗎？為什麼？

答案：因為

所以我 同意 / 不同意 / 無法肯定 (圈出答案) 她的說法。