

複習二

● 1上至6上課題



日期：_____



成績：_____ /19



時限： 20分鐘

| 範疇 | 評估重點 | 題目 | 得分 |
|-------|-----------------------------------|--------------------|----------|
| 數 | ◇ 倍數和因數 ◇ 小數的認識 ◇ 百分數和小數的互化 | ◇ 四則混合計算 ◇ 分數除法 | 1-6 /6 |
| 度量 | ◇ 時間 ◇ 容量 | ◇ 面積 | 7-9 /4 |
| 圖形與空間 | ◇ 圓 ◇ 平行和垂直 | ◇ 直線和曲線 ◇ 八個方向 | 10-12 /6 |
| 數據處理 | ◇ 平均數 | 13 | /3 |



自我評估

15-19分



10-14分



0-9分



評分欄



1分



1分



1分



1分



1分



1分



1分



1分

1. $939 - 39 \div 3 =$ _____

2. $2\frac{1}{2} \div 8 \div \frac{5}{6} =$

3. 6是36的★ 因數 / 倍數 (★圈出答案),
而36是6的★ 因數 / 倍數 (★圈出答案)。

4. 24和60的第二個公倍數是240, 第六個公倍數是_____。

5. 以下哪個數中的「7」是在十分位?

- A. 4.7201 ○ B. 47.201 ○ C. 472.01 ○ D. 4720.1

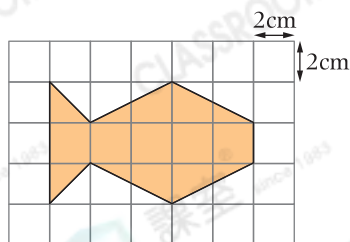
6. 把205.5%化為小數。

答案：_____

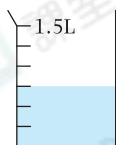
7. 飛機由甲地飛往乙地需要6小時。這架飛機在上午6:55由甲地出發, 它將於_____午_____ : _____ 到達乙地。

8. 右圖中, 每個方格邊長2cm, 着色部分的面積是_____。

(答案須寫上單位)



9.



(a) 量杯內有_____mL水。

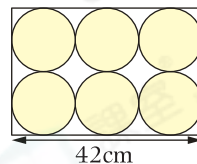
(b) 量杯內的水可注滿_____個容量為50mL的容器。

1分

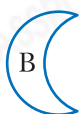
1分

1分

10. 一個長方形內有6個大小相同的圓，如右圖所示。這個長方形的長是42cm，它的闊是_____cm。



11.



根據表中對圖形的描述，把代表圖形的英文字母寫在橫線上。

| | 直線 | 曲線 | 垂直線 | 平行線 |
|-------------|----|----|-----|-----|
| (a) 圖形_____ | ✓ | ✓ | ✓ | ✓ |
| (b) 圖形_____ | ✓ | ✗ | ✓ | ✓ |
| (c) 圖形_____ | ✓ | ✓ | ✗ | ✗ |
| (d) 圖形_____ | ✗ | ✓ | ✗ | ✗ |

1分

1分

1分

1分

1分

12. 文康由家步行到游泳池。按下圖寫出他的步行方向。



文康先向_____方步行，然後轉往_____方，最後轉向_____方走便可到達。

13. 爸爸有233枚郵票，比媽媽多26枚，哥哥有85枚，平均每人有郵票多少枚？(列式計算)

1分

1分

1分